


## Scenariusz nr 2

Karta pracy nr 1

**Oblicz:**

1. Ola miała 14 dag mąki i 12 dag cukru. **Ile ważyły cukier i mąka razem?**




A grid of 20 columns and 10 rows for writing the solution to problem 1.

---

---

---

2. Wojtek kupił 10 dag cukierków czekoladowych i 20 dag cukierków waniliowych.  
**Ile ważyły wszystkie cukierki Wojtka? Jego mama kupiła 40 dag krówek.  
Ile ważyły cukierki Wojtka i jego mamy?**




A grid of 20 columns and 10 rows for writing the solution to problem 2.

---

---

---

3. Bartek i Ania dostali 12 dag cukierków od mamy i 15 dag cukierków od taty.  
Wieczorem odwiedzili babcię, która również dała im cukierki. Teraz mieli 50 dag  
cukierków. **Ile ważyły cukierki, które dzieci otrzymały od babci?**



A grid of 20 columns and 10 rows for writing the solution to problem 3.

---

---

---