







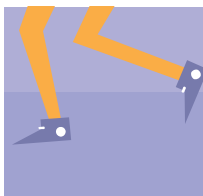



## Scenariusz nr 28

Karta pracy nr 1

### Polecenie 1:

Wykonaj działania. Sprawdź poprawność wyniku za pomocą mnożenia.  
Wytnij kwadraty i ułóż wyniki od najwyższego do najniższego.  
Wklej je w odpowiednie miejsca na rysunku.

$12 : \dots = 4$		
$25 : \dots = 5$		
$30 : \dots = 6$		
$24 : \dots = 4$		
$20 : \dots = 5$		
$18 : \dots = 6$	