

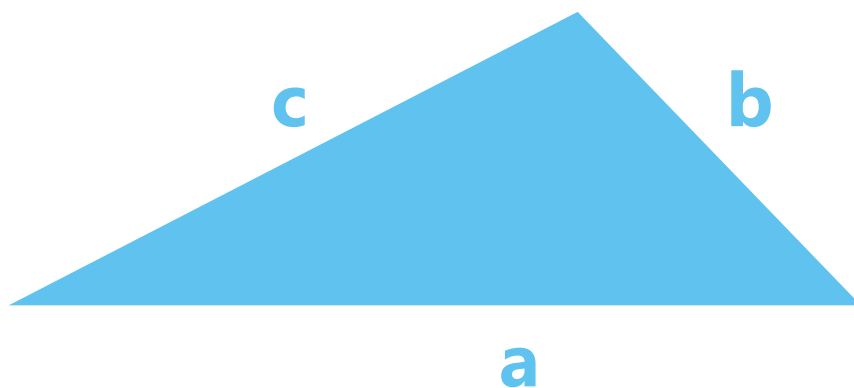
## Scenariusz nr 67

Karta pracy nr 1a


### Zadanie nr 1

#### Polecenie:

Oblicz obwód trójkąta przedstawionego na ilustracji. W tym celu rozwiąż zagadki matematyczne:

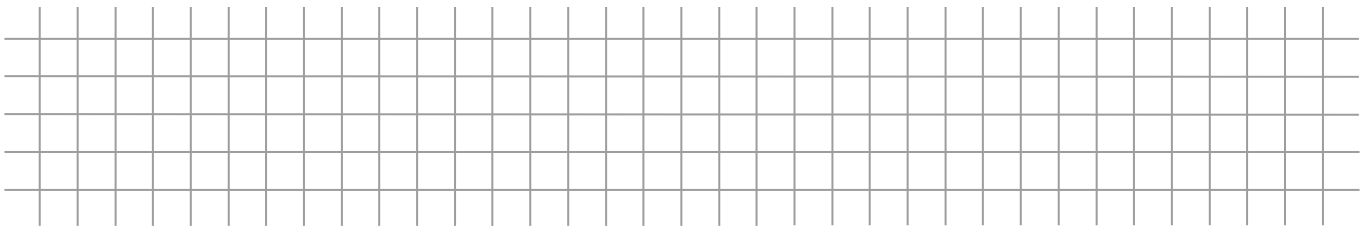


- wartość boku „a” jest 5 razy większa od liczby 2,
- wartość boku „b” jest mniejsza o 4 cm od wartości boku „a”,
- wartość boku „c” jest mniejsza o 2 cm od wartości boku „a”, a ponadto większa o 2 cm od wartości boku „b”.



## Zadanie 2

Wartość każdego z boków trójkąta jest dwukrotnie większa od wcześniej podanych.  
Czy obwód trójkąta także będzie dwukrotnie większy?



**Odpowiedź:**

---

---

---

---