


# Scenariusz zajęć nr 37

Karta pracy nr 1


**Zadanie 1:** W ramki wpisz rozwiązania rebusów.



~~ka~~+r



~~młot~~ + k



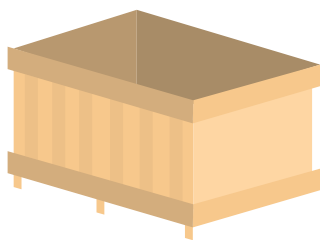
~~skownica~~+n

--	--	--	--	--	--	--	--	--




a=e ~~ming~~ + t

--	--	--	--



~~nia~~ + p

~~ow~~




--	--	--	--	--	--	--	--

## Zadanie 2

Rozwiąż zadanie.

Ania i Antek wraz z mamą i tatą wybrali się na koncert orkiestry dętej. Za 4 bilety zapłacili 56 zł.

**Ile kosztował bilet ulgowy, jeżeli rodzice zapłacili za dwa swoje bilety 32 zł?  
Policz, ile musiałaby zapłacić ta rodzina za bilety, jeśli ich ceny wzrosną o 8 zł.**



**Odpowiedź:**

---

---

---

---