

Scenariusz nr 16

Karta pracy nr 1a

Zadanie 1


Zmierz, zapisz, a następnie dodaj długości boków wybranego prostokąta przedstawionego w pracy plastycznej.

Bok nr 1 –

Bok nr 2 –

Bok nr 3 –

Bok nr 4 –



Odp. Suma długości boków wynosi


Zadanie 2

Zmierz i dodaj długości boków dowolnego trójkąta na wykonanej przez siebie pracy plastycznej.

Bok nr 1 –

Bok nr 2 –


Bok nr 3 –



Odp. Suma długości boków wynosi

Zadanie 3

Zmierz odległość między Zagrodą Północą i Zagrodą Południową na wykonanej przez siebie



Odp. Odległość między zagrodami wynosi.....