
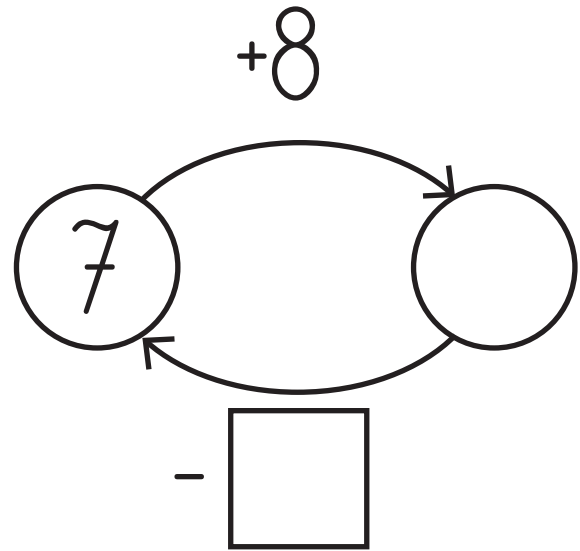
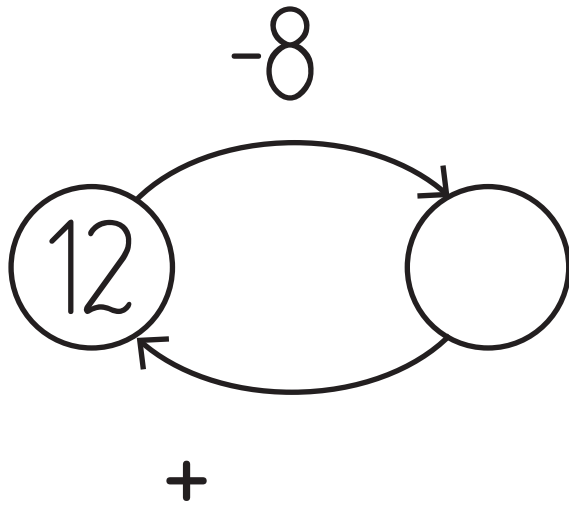


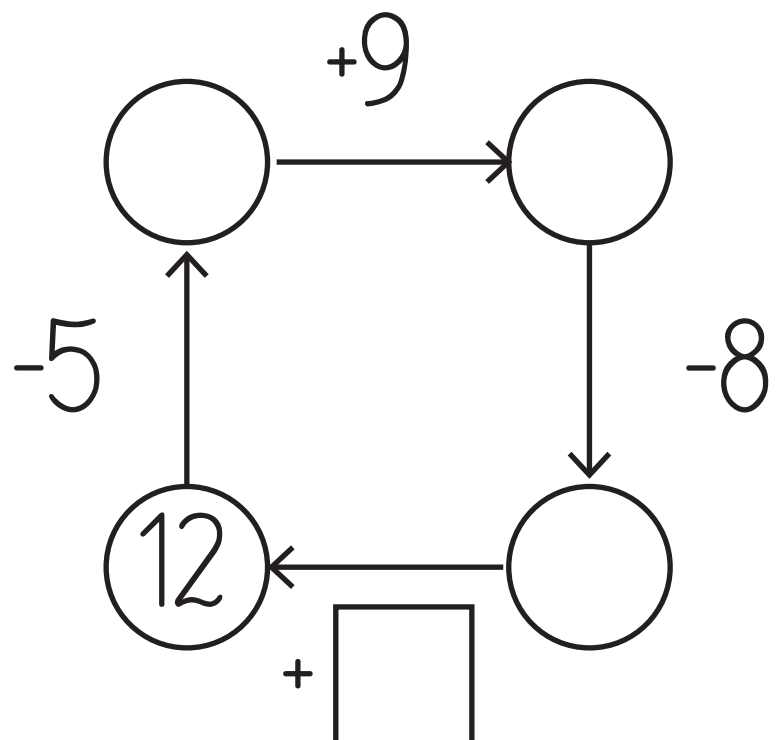
# Scenariusz zajęć nr 50.

Karty pracy nr 1.

**Polecenie 1:** Wykonaj obliczenia i uzupełnij grafy.



5	
6	
9	
4	
3	



**Polecenie 2:**

Uzupełnij magiczny kwadrat. Suma liczb ułożonych poziomo, pionowo i po przekątnej musi być taka sama.

<b>13</b>		<b>5</b>	
<b>4</b>	<b>19</b>		<b>5</b>
	<b>5</b>	<b>4</b>	
<b>10</b>	<b>7</b>		<b>8</b>