
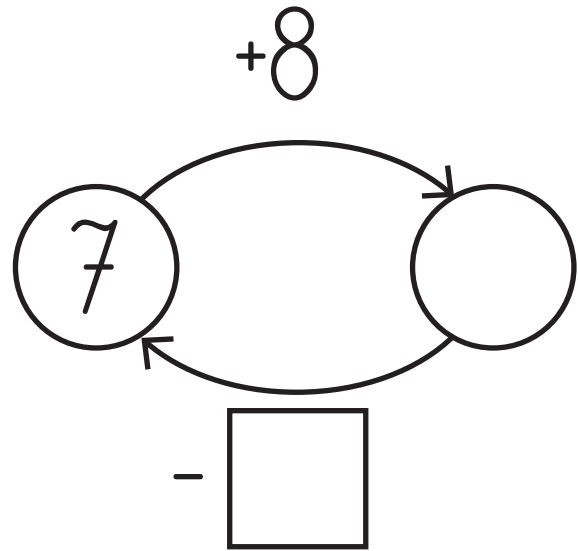
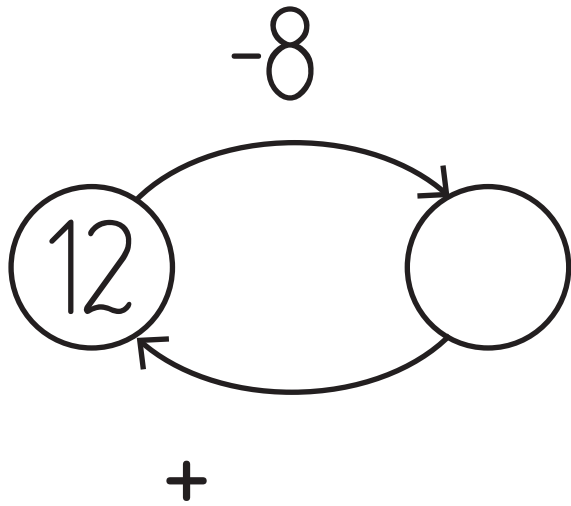


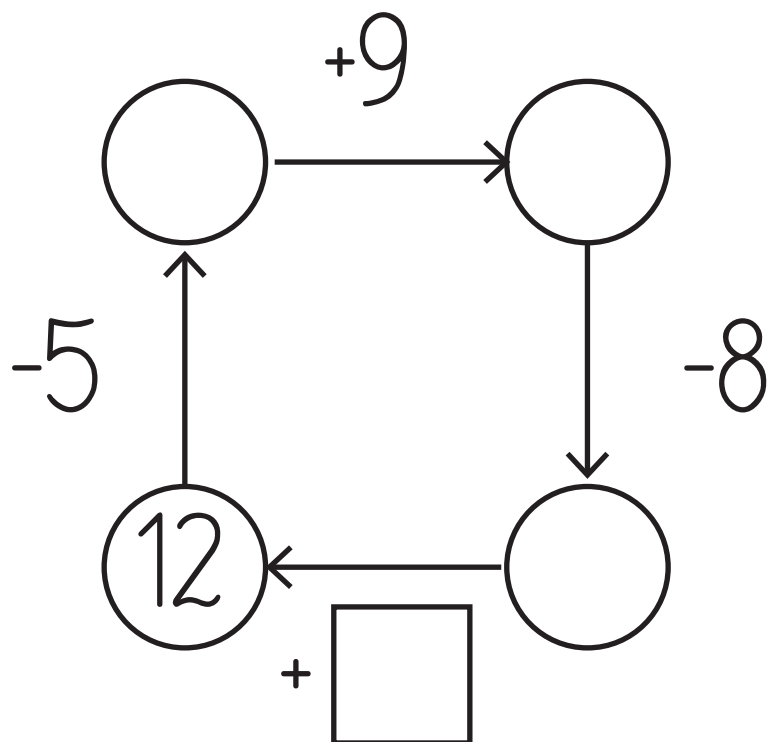
# Scenariusz zajęć nr 50.

Karty pracy nr 1.

**Polecenie 1:** Wykonaj obliczenia i uzupełnij grafy.



|   |  |
|---|--|
|   |  |
| 5 |  |
| 6 |  |
| 9 |  |
| 4 |  |
| 3 |  |



**Polecenie 2:**

Uzupełnij magiczny kwadrat. Suma liczb ułożonych poziomo, pionowo i po przekątnej musi być taka sama.

|           |          |          |          |          |
|-----------|----------|----------|----------|----------|
| <b>3</b>  |          |          | <b>9</b> | <b>4</b> |
| <b>11</b> |          | <b>5</b> | <b>6</b> |          |
| <b>4</b>  |          |          | <b>9</b> | <b>1</b> |
| <b>6</b>  | <b>2</b> | <b>8</b> | <b>6</b> |          |
| <b>13</b> | <b>5</b> | <b>3</b> | <b>7</b> | <b>9</b> |