


### Polecenie 1:

Pokoloruj na czerwono wskazówkę godzinową, a na zielono wskazówkę minutową.



### Polecenie 2:

Ile to minut? Połącz jednostki czasu z ich wartościami. Zaznacz każdą jednostkę na tarczy zegara.

**GODZINA**




**KWADRANS**

**PÓŁ GODZINY**

**15 minut**

**60 minut**

**30 minut**



**Polecenie 3:**

Uporządkuj jednostki czasu rosnąco – od najkrótszej do najdłuższej.  
W kwadraty wpisz odpowiednie cyfry od 1 do 4.

<b>GODZINA</b>	<input type="text"/>
<b>MINUTA</b>	<input type="text"/>
<b>PÓŁ GODZINY</b>	<input type="text"/>
<b>KWADRANS</b>	<input type="text"/>

**Polecenie 4:**

Wstaw odpowiedni znak między liczbami: <, >, =.

<b>15 min.</b>	<input type="text"/>	<b>30 min.</b>
<b>60 min.</b>	<input type="text"/>	<b>15 min.</b>
<b>30 min.</b>	<input type="text"/>	<b>60 min</b>
<b>1 godz.</b>	<input type="text"/>	<b>15 min.</b>
<b>60 min.</b>	<input type="text"/>	<b>1 godz.</b>
<b>1 godz.</b>	<input type="text"/>	<b>30 min.</b>