






Scenariusz zajęć nr 35

Karta pracy nr 1

Polecenie 1: Oto oferta sklepu z pokarmem dla zwierząt.
Sprawdź ceny odpowiednich produktów i uzupełnij działania.


DLA KOGO?	RODZAJ PRODUKTU	CENA
ŻÓŁWIE 	KARMA	13 Zł
	WAPNO	3 Zł
PTAKI 	MIESZANKA OWOCOWA	14 Zł
	WITAMINY	17 Zł
	WAPNO Z MUSZLAMI	7 Zł
RYBKI 	POKARM SUSZONY	11 Zł
	POKARM Z MINERAŁAMI	19 Zł
CHOMIKI 	KOLBA	4 Zł
	KOSTKA WAPIENNA	2 Zł
	POKARM PODSTAWOWY	8 Zł

1. Marek zamówił dla swojego żółwia oba produkty. Ile zapłaci za te zakupy?



Odp.: Marek zapłacił za zakupy zł.

2. Dominika hoduje chomika i rybki. Zamówiła pokarm podstawowy i pokarm z minerałami. Dała sprzedawczyni 50 zł. Ile reszty powinna otrzymać?



Odp.: Dominika powinna otrzymać zł reszty.

Polecenie 3:

Oblicz, ile czasu upłynie:

Od 1:00 do 7:00 upłynie godzin.

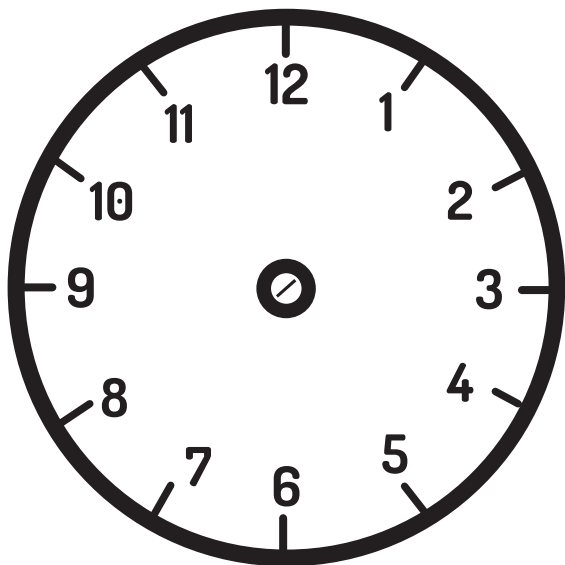
Od 6:00 do 12:00 upłynie godzin.

Od 3:00 do 11:00 upłynie godzin.

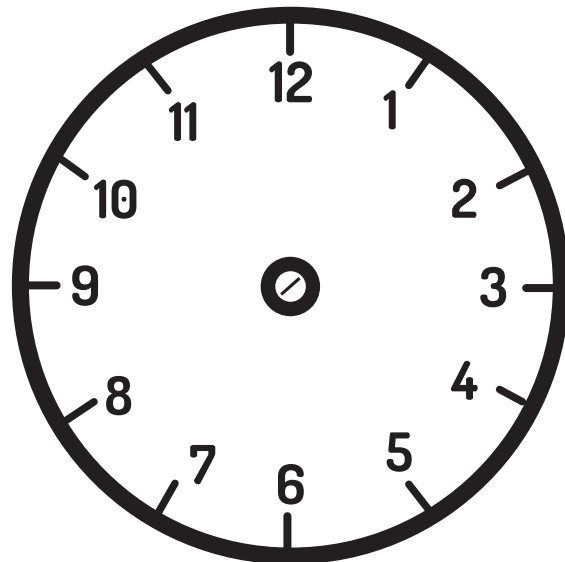
Od 5:00 do 10:00 upłynie godzin.

Polecenie 2:

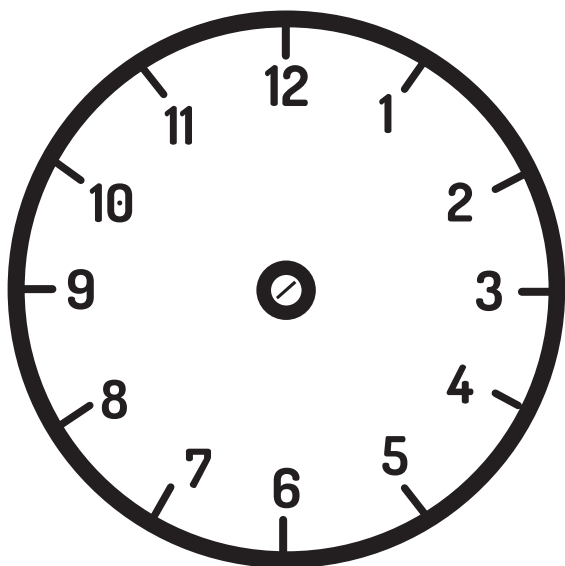
Dorysuj wskazówki na zegarach tak, aby wskazywały podane godziny karmienia zwierząt.



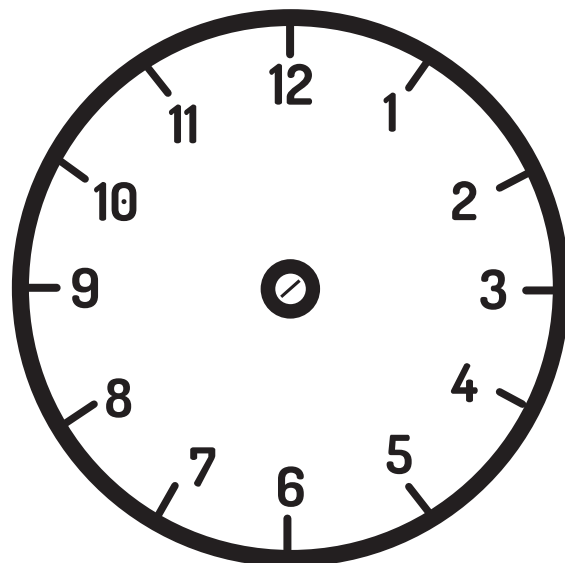
**Łukasz karmi kanarki
o godzinie siódmej rano.**



**Marek karmi żółwia
o godzinie drugiej po południu.**



**Dominika karmi chomika
o godzinie dziesiątej rano.**



**Kamil karmi rybki
o godzinie piątej po południu.**