

Scenariusz nr 12


Zadanie 1

Polecenie: narysuj i rozwiąż zadanie:


Przy ulicy Kopernika stały 3 znaki ostrzegawcze, 4 znaki zakazu i jeden znak informacyjny. Ile znaków stało przy ulicy Kopernika?

Rysunek:

Obliczenie:



Odpowiedź:




Zadanie 2


Polecenie: rozwiąż zadanie:

W tramwaju było 5 mężczyzn i 4 kobiety. Na pierwszym przystanku wysiadło 3 pasażerów. Ile osób pojechało dalej?

Obliczenie:



Odpowiedź:



Zadanie 3

Polecenie: narysuj swoją drogę do szkoły. Uwzględnij znaki drogowe, jakie spotykasz na swojej drodze.

