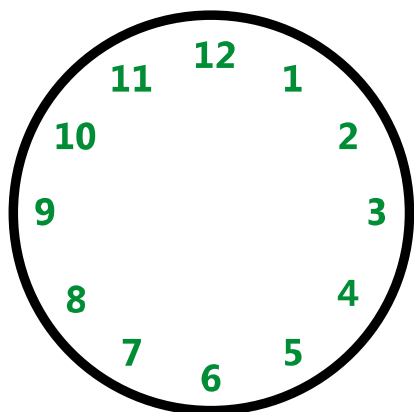



Karta pracy: Zegar - jak odmierzać czas?


1. Zaznacz godzinę na tarczy zegara.




10.00




14.30




2.00




23.30




15.00




9.15



6.45



18.00



24.00

2. Przeczytaj uważnie zadania i oblicz czas.

Zadanie 1

a) Basia przysła z kursu tańca o 15.00. Odpoczywała pół godziny i wyszła z psem na spacer. **O której Basia wyszła na spacer z psem?**

Odpowiedź:

b) Po kwadransie spotkała Olę. **Która to była godzina?**

Odpowiedź:

c) Razem spacerowały 45 minut.

O której godzinie dziewczynki się rozstały?

Odpowiedź:

Zadanie 2

Franek wyjeżdża do szkoły o godzinie 6.30. Wraca w południe.

Ile godzin Franek spędza poza domem?

Odpowiedź:

a) Franek o godzinie 13.30 idzie na trening. Razem z Karolem ćwiczą na siłowni 4 razy po 10 minut, plus 10 minut rozgrzewki i 10 minut ćwiczeń rozluźniających.

Ile czasu chłopcy poświęcają na trening?

Odpowiedź:

b) O godzinie 16.45 Franek siada do odrabiania lekcji.

Zajmuje mu to 45 minut. O której kończy odrabianie lekcji?

Odpowiedź:

c) O godzinie 22.30 Franek idzie spać.

Wstaje o 6.00. Ile godzin śpi Franek?

Odpowiedź:
