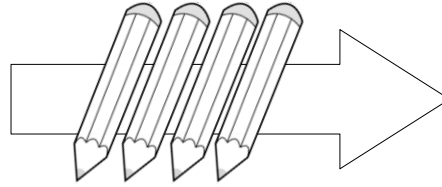
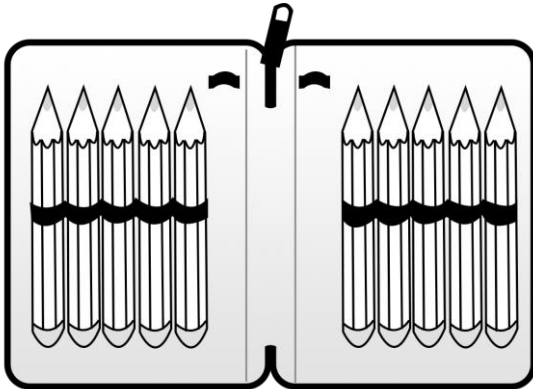




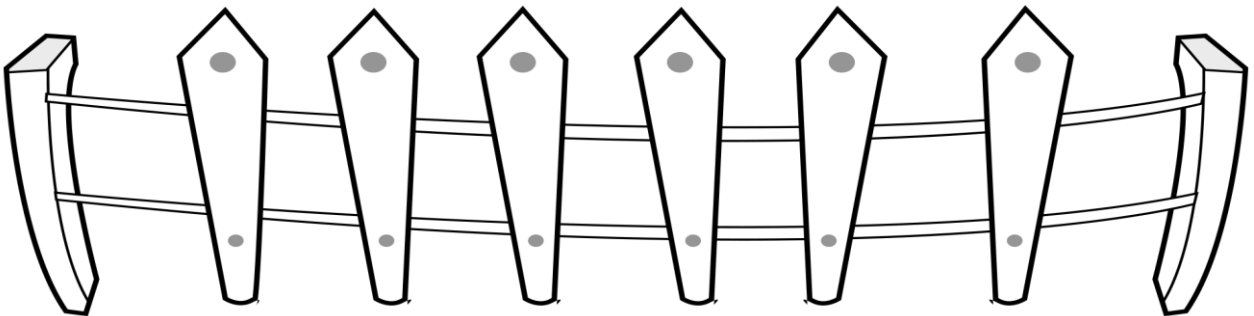
1. Alek miał w piórniku 10 kredek. Oddał Czarkowi 4 kredki. Ile kredek ma teraz Alek w piórniku?



$$\square - \square = \square$$

Odpowiedź: Alek ma teraz  kredek w piórniku.

2. W zagrodzie było 7 owiec. 3 z nich uciekły. Ile owiec jest w zagrodzie?  
Narysuj ilustrację zadania.



$$\square - \square = \square$$

☺ Odpowiedź: W zagrodzie zostało  owiec.

