







1. Mama postawiła na stole talerz z 6 babeczkami. Tola zjadła 1 babeczkę, a Alek 2 babeczki. Ile babeczek zostało na stole?



$$\square - \square - \square = \square$$

Odpowiedź: Na stole zostało babeczek.

2. W domu było 8 jabłek. Zosia zjadła 2 jabłka, a potem jeszcze 1 jabłko. Ile jabłek pozostało?



$$\square - \square - \square = \square$$

Odpowiedź: Pozostało jabłek.

