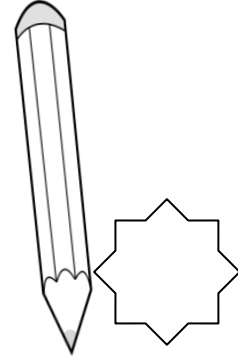

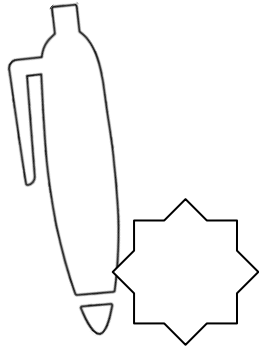




1. Tola kupiła długopis za 3zł, zeszyt za 2zł i ołówek za 1zł. Ile zapłaciła za zakupy?



$$\square + \square + \square = \square$$

Odpowiedź: Tola zapłaciła za zakupy.

2. Do sałatki owocowej Tola pokroiła 3 banany, 1 pomarańczę i 3 jabłka. Ile owoców użyła Tola do sałatki?

Narysuj owoce.



$$\square + \square + \square = \square$$

Odpowiedź: Tola użyła owoców.

