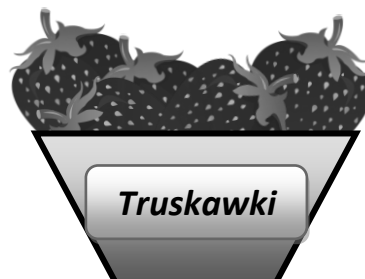


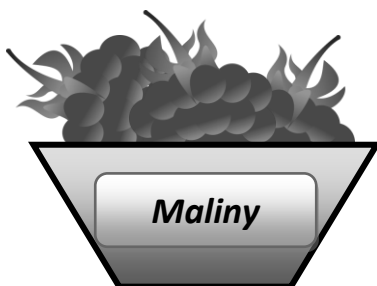





Na straganie w pojemnikach leżą różne owoce na sprzedaż. Jest tam trzy razy więcej jabłek niż truskawek, malin o 3 kilogramy mniej niż czereśni, gruszek jest tyle co malin, a śliwek jest o 5kg mniej niż gruszek.



5 kg



12 kg





a) Ile jest jabłek, a ile jest malin?

jabłka - 


 maliny - 


Odpowiedź:


b) Ile jest gruszek, a ile jest śliwek?

gruszki - 


 śliwki - 


Odpowiedź:


c) Wpisz ilość poszczególnych owoców pod koszykami.

d) Ile jest wszystkich owoców na straganie?

Obliczenia:


Odpowiedź: