






1. Odczytaj godziny jakie wskazują zegary i zapisz je zgodnie z wzorem.

PRZED POŁUDNIEM

3:00



PO POŁUDNIU

15:00

