







1. Karol z okna obserwował ulicę i stawiał kreskę, gdy przejechał dany pojazd. Oblicz ile pojazdów przejechało obok okna Karola i narysuj wykres.

 rower	 osobowe	 ciężarowe	 autobusy
Razem:	Razem:	Razem:	Razem:

