




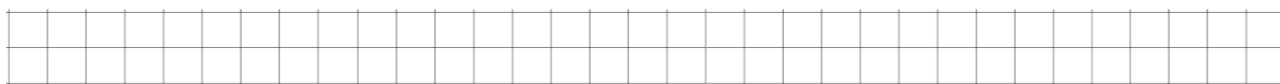
*Narysuj rysunki pomocnicze do zadań i rozwiąż je.*

1. Boisko ma kształt prostokąta o długości 20m i szerokości 10m. Jaki jest obwód tego boiska?

Obliczenia:




Odpowiedź:



2. Działka ma kształt kwadratu o boku 18m. Ile metrów siatki należy kupić, aby ogrodzić działkę?

Obliczenia:



Odpowiedź:

