





1. Otocz pętlą owoce dębu.
2. Pokoloruj jarzębinę.
3. Policz ile jest żołędzi, kasztanów, szyszek i owoców jarzębiny. Liczby napisz pod rysunkami.

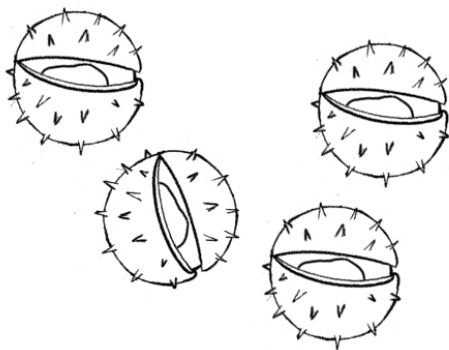
- Powiedz, których owoców jesieni jest najwięcej?




Owoców jarzębiny jest



Żołędzi jest



Kasztanów jest



Szyszek jest

