








1. Na rysunku znajduje się pięć koszyków odpowiadających pięciu grupom produktów. Wymień co najmniej po 5 produktów z każdej grupy.

 <p><b>produkty mleczne</b></p>	<ul style="list-style-type: none"> <li>▪ .....</li> <li>▪ .....</li> <li>▪ .....</li> <li>▪ .....</li> <li>▪ .....</li> </ul>
 <p><b>warzywa i owoce</b></p>	<ul style="list-style-type: none"> <li>▪ .....</li> <li>▪ .....</li> <li>▪ .....</li> <li>▪ .....</li> <li>▪ .....</li> </ul>
 <p><b>słodycze i przekąski</b></p>	<ul style="list-style-type: none"> <li>▪ .....</li> <li>▪ .....</li> <li>▪ .....</li> <li>▪ .....</li> <li>▪ .....</li> </ul>
 <p>produkty zbożowe</p>	<ul style="list-style-type: none"> <li>▪ .....</li> <li>▪ .....</li> <li>▪ .....</li> <li>▪ .....</li> <li>▪ .....</li> </ul>
 <p>produkty pochodzenia zwierzęcego</p>	<ul style="list-style-type: none"> <li>▪ .....</li> <li>▪ .....</li> <li>▪ .....</li> <li>▪ .....</li> <li>▪ .....</li> </ul>

