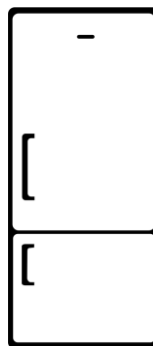

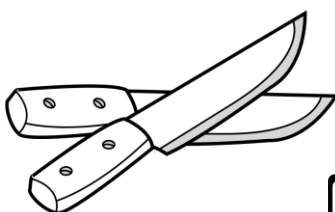
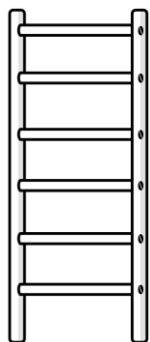




1. Spośród widocznych poniżej przedmiotów otocz pętlą te, które znajdują się w kuchni.



2. Wypisz w chmurce przedmioty, które powinny być w ogrodzie.

Ogród

1) _____

2) _____

