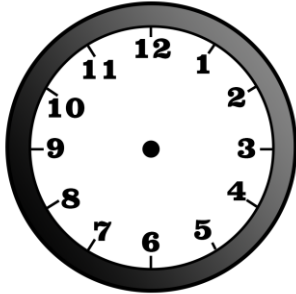
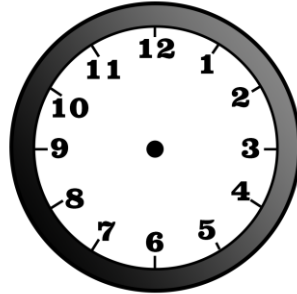




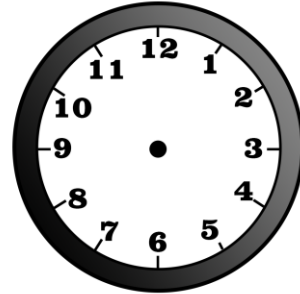
1. Na rysunkach zaznacz prawidłowo godziny, które wskazane są za pomocą zapisu cyfrowego. W liniijkach zaznaczonych na szaro wpisz liczbę minut, których brakuje do pełnej godziny.
Np. O 13: 22 do pełnej godziny brakuje 38 minut.



11:20



09:15



16:10

Do pełnej godziny brakuje

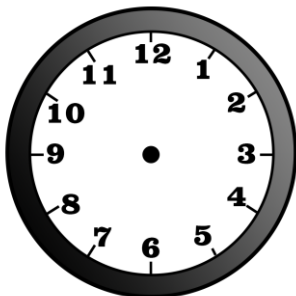
minut.

Do pełnej godziny brakuje

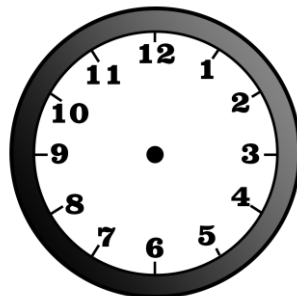
minut.

Do pełnej godziny brakuje

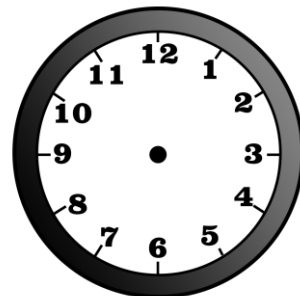
minut.



17:45



21:05



04:30

Do pełnej godziny brakuje

minut.

Do pełnej godziny brakuje

minut.

Do pełnej godziny brakuje

minut.

