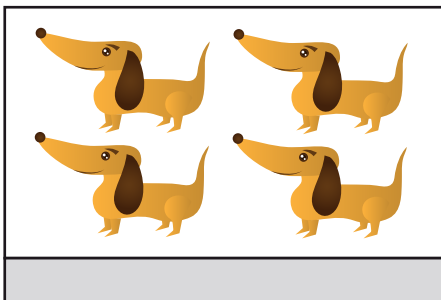
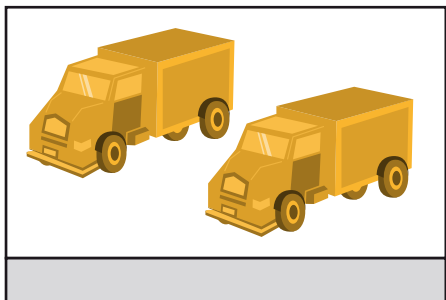



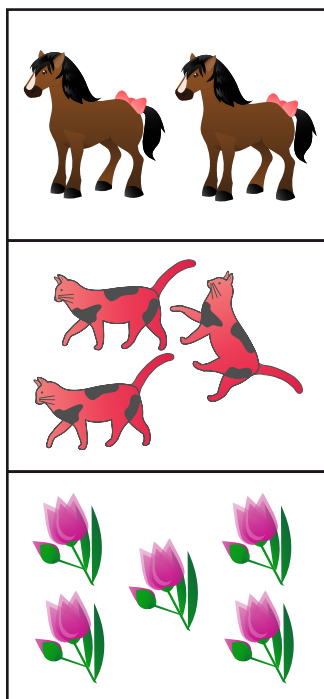
Badanie osiągnięć edukacyjnych ucznia. (Data badania .....)

1. Wpisz w szare okienko pod tabelą liczbę opisującą ilość przedstawionych elementów.



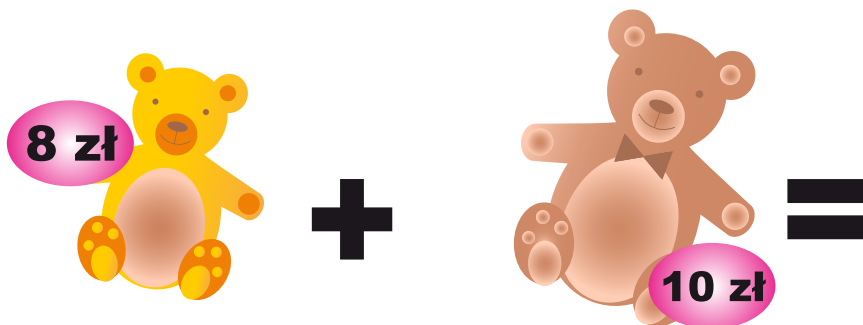
2. Porównaj zbiory wpisując w okienko odpowiedni znak.







\*3. Ułóż treść zadania do przedstawionego rysunku. Zapisz i wykonaj potrzebne obliczenia. Podaj odpowiedź.



KAPITAŁ LUDZKI  
NARODOWA STRATEGIA SPÓJNOŚCI



OŚRODEK  
ROZWOJU  
EDUKACJI

UNIA EUROPEJSKA  
EUROPEJSKI  
FUNDUSZ SPOŁECZNY

