



Karta nr 11

Badanie osiągnięć edukacyjnych ucznia. (Data badania)


1. Otocz pętlą talerz, na którym leży więcej owoców.



2. Które warzywo jest lżejsze? Pokoloruj to warzywo, które jest lżejsze.



3. Otocz pętlą zwierzęta, które są cięższe.



*4. Połącz przedmioty od najlżejszego do najcięższego.

