



Karta nr 4

Badanie osiągnięć edukacyjnych ucznia. (Data badania)


1. Otocz zielonym kwadratem tylko zwierzęta żyjące na wsi.



2. Uszereguj zwierzęta od najmniejszego do największego rysując strzałki pomiędzy nimi.



3. Dokończ wzór:



* 4. Zadanie dodatkowe.

Połącz pamiątki z miejscami, z których one są.



KAPITAŁ LUDZKI
NARODOWA STRATEGIA SPÓJNOŚCI



OŚRODEK
ROZWOJU
EDUKACJI

UNIA EUROPEJSKA
EUROPEJSKI
FUNDUSZ SPOŁECZNY

