

Test sprawdzający nr 7 dla uczniów klasy drugiej

(scenariusze numer 85 – 98)

Imię i nazwisko ucznia:

Klasa:

Data:

Wynik: /21 pkt

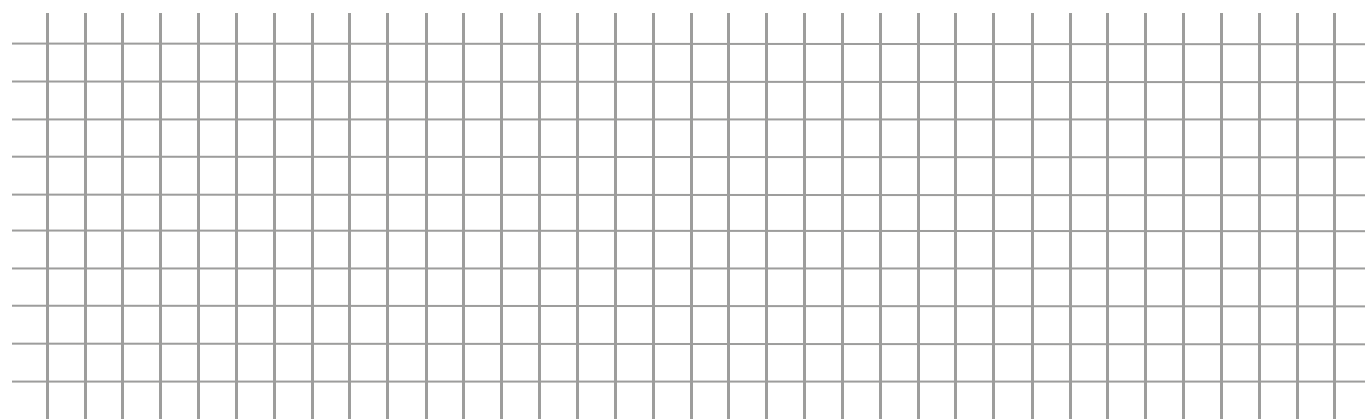
Zadanie 1.

Napisz w 3 zdaniach, który zabytek w twojej okolicy podoba ci się najbardziej i dlaczego.

____ \4 pkt

Zadanie 2.

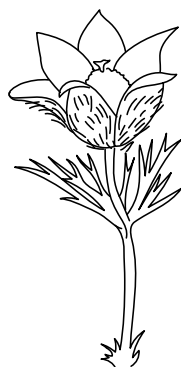


Narysuj odcinek o długości 5 cm, następnie narysuj drugi odcinek dłuższy od pierwszego o 2 cm.

A grid consisting of 20 vertical columns and 10 horizontal rows, intended for drawing a line segment.

____ \3 pkt

Zadanie 3.

Dopasuj nazwę rośliny do rysunku, który ją przedstawia.



PRZEBIŚNIEG

PIERWIOSNEK

KROKUS


SASANKA

___ / 4pkt

Zadanie 6.

Rysunek przedstawia ogród pana Piotra.

Oblicz, następnie napisz, ile kwiatów rośnie w ogrodzie pana Piotra.



___ /2 pkt

