

Test sprawdzający nr 6 dla uczniów klasy drugiej

(scenariusze nr 71 – 84).

Imię i nazwisko ucznia:

Klasa:

Data:

Wynik: /26pkt

Zadanie 1.

Oblicz działania. Otocz niebieską pętlą działania z wynikiem parzystym, czerwoną pętlą działania z wynikiem nieparzystym.

$$73 + 15 =$$
$$28 - 15 =$$

$$6 \cdot 6 =$$
$$42 : 8 =$$

___ /8 pkt

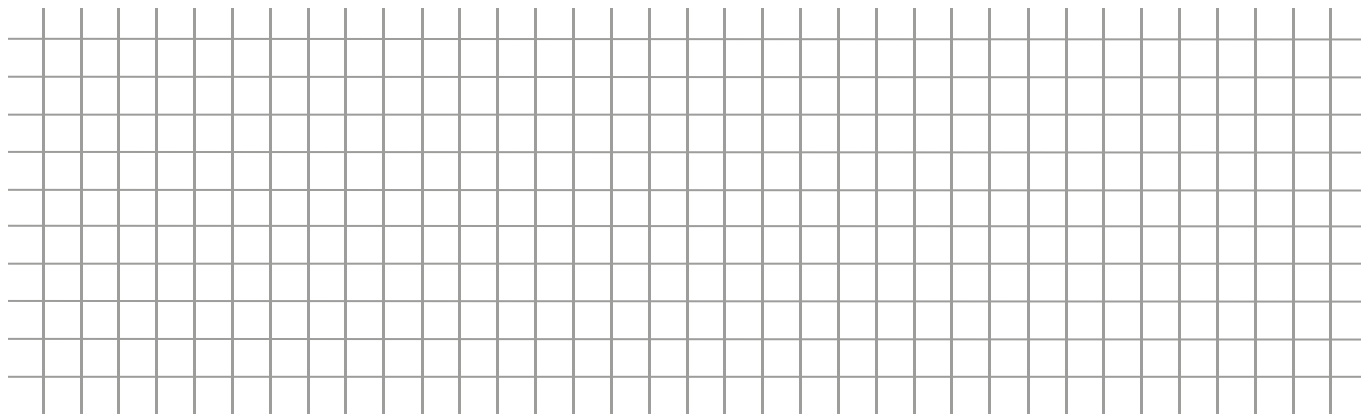
Zadanie 2.

Wymień 3 pojazdy, którymi można podróżować po lądzie. Ułóż zdanie z jednym wymienionym przez siebie wyrazem.

___ /4 pkt

Zadanie 3.

Narysuj prostokąt o długości boków 5 cm i 4 cm.



____ /3 pkt

Zadanie 4.

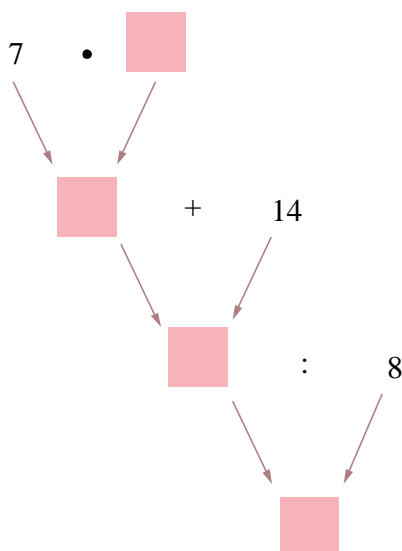
Wykreśl wyraz, który nie pasuje do pozostałych.

1. Chleb, bułka, chałka, czekolada.
2. Statek, samolot, łódź, tratwa.
3. Probówka, farby, pędzel, płótno.

____ / 3 pkt

Zadanie 5.


Uzupełnij graf odpowiednimi liczbami.



____ /3 pkt

Zadanie 6.

Dokończ rysować wzór.



____ /5 pkt

