

Test sprawdzający nr 3 dla uczniów klasy drugiej.

(scenariusze zajęć nr 26 - 40).

Imię i nazwisko ucznia:

Klasa:

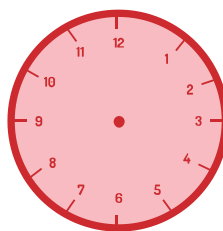
Data:

Wynik: /27 pkt


Zadanie 1.

Zaznacz godziny na tarczy zegara.

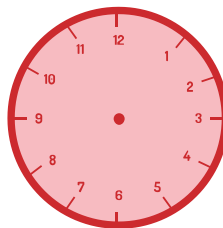
12.00



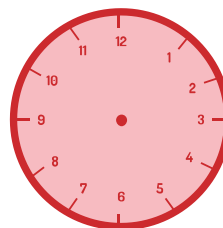
1.00




7.00



9.00



11.00



_____ / 5 pkt.

Zadanie 2.

Uzupełnij graf odpowiednimi liczbami.



___ / 4 pkt

Zadanie 3.

Rozwiąż zadanie.

Kasia ma w skarbonce dwie monety po 2 złote, jedną monetę 5 złotych, jeden banknot 10 złotych i jeden 20 złotych. Otocz pętlą monety i banknoty, które Kasia ma w swojej skarbonce.



___ /1 pkt

