


Badanie osiągnięć edukacyjnych nr 7 dla uczniów klasy drugiej (scenariusze numer 95 – 110)


Zadanie 1

Zaznacz na butelce o pojemności 1 litra odpowiednią ilość soku.

- pół litra soku



- ćwierć litra soku



Zadanie 2

Przeczytaj zadanie. Narysuj graf liczbowy, przedstawiający jego treść.
Rozwiąż zadanie.


Kwiaciarka otrzymała zamówienie na wykonanie 4 bukietów.
W jednym umieściła 16 czerwonych róż, drugi zawierał 36 czerwonych tulipanów,
trzeci 17 frezji, w czwartym umieściła 12 frezji i 9 tulipanów.

Ile kwiatów było w czwartym bukiecie?

Ile frezji użyła do wykonania wszystkich bukietów a ile tulipanów?

O ile więcej tulipanów niż frezji wykorzystała do wykonania bukietów?

Ile kwiatów zawierały wszystkie bukiety?



Odpowiedź:

Zadanie 3.

Wymień 3 rośliny, które rosną na łące.

Zadanie 4.

Narysuj biedronkę siedmiokropkę. Pamiętaj o odpowiedniej liczbie kropek i odnóży.

Zadanie 5.

Wymień trzy cechy charakterystyczne dla kultury góralskiej.
