


Badanie osiągnięć edukacyjnych nr 1 dla uczniów klasy drugiej.

(scenariusze zajęć numer 1 -15).

Zadanie 1.


Odczytaj liczbę znajdującą się po lewej stronie rysunku. Skreśl lub dorysuj tyle przedmiotów, aby ich liczba zgadzała się z podaną liczbą.

A.



20






B.



13

Zadanie 2.

Przyporządkuj za pomocą linii przedmioty przywiezione z wakacji do odpowiedniego miejsca ich pochodzenia.




MORZE

GÓRY

Zadanie 3.

Zaznacz brakujące liczby na osi liczbowej.



Zadanie 4.

1. Wykonaj działania

$$\boxed{20} - \boxed{5} = \underline{\hspace{2cm}} \mathbf{s}$$

$$\boxed{9} + \boxed{3} = \underline{\hspace{2cm}} \mathbf{j}$$

$$\boxed{10} + \boxed{7} = \underline{\hspace{2cm}} \mathbf{e}$$

$$\boxed{17} - \boxed{4} = \underline{\hspace{2cm}} \mathbf{e}$$

$$\boxed{20} - \boxed{4} = \underline{\hspace{2cm}} \mathbf{i}$$

$$\boxed{11} + \boxed{8} = \underline{\hspace{2cm}} \mathbf{ń}$$

2. Ułóż otrzymane liczby w kolejności od najmniejszej do największej, a z towarzyszących im liter otrzymasz hasło. Wpisz hasło w wyznaczonym miejscu.
