

## **Badanie osiągnięć edukacyjnych nr 2 dla uczniów klasy trzeciej**


(scenariusze numer 17 – 34)

### **Zadanie 1**

Rozwiąż zadanie.

Babcia Kuby ma 76 lat, jego mama jest o 40 lat młodsza od babci, a tata starszy od mamy o 2 lata. Kuba urodził się, gdy jego mama miała 28 lat.

**Ile lat mają rodzice Kuby? W jakim wieku jest chłopiec?**

A large grid of graph paper consisting of 20 columns and 10 rows of squares, intended for students to perform calculations or draw diagrams to solve the problem.

**Odpowiedź:**

Four horizontal lines provided for the student to write their final answer to the problem.

### **Zadanie 2**

Napisz 5 zdań na temat twojego najlepszego przyjaciela.

A writing area consisting of 20 horizontal lines, intended for the student to write five sentences about their best friend.

### Zadanie 3


1. Napisz nazwy świąt obok dat:

1 listopada -

11 listopada -

2. Oblicz:

- liczbę dni w 4 tygodniach
- liczbę dni w 7 tygodniach
- liczbę dni w 9 tygodniach



**Odpowiedź:**

---

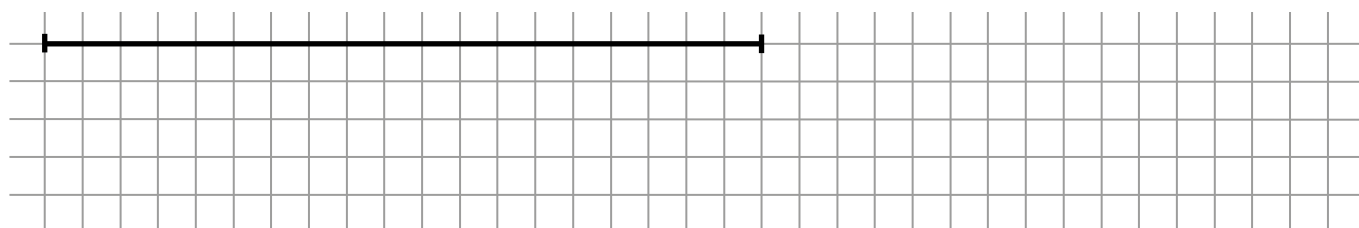
---

---

---

### Zadanie 4.

1. Zmierz długość odcinka i podaj jego długość w centymetrach. Następnie narysuj odcinek dłuższy o połowę długości pierwszego odcinka. Ile wynosi suma długości obu odcinków.



**Odpowiedź:**

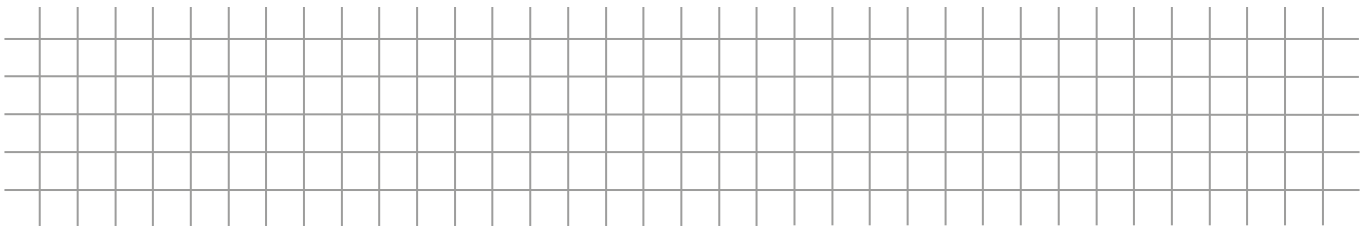
---

---

---

---

2. Ile centymetrów wyniesie obwód prostokąta o długościach boków równych tym odcinkom?



**Odpowiedź:**

---

---

---

---

### Zadanie 5

Ułóż 3 zdania z wyrazami: **wygrać, drogi, krzywda**

---

---

---

---

---

---

---

---

---

---

---

---