


Matematyka

zainteresowania i pasje



KAPITAŁ LUDZKI
CZŁOWIEK – NAJLEPSZA INWESTYCJA!



Wyższa Szkoła
Pedagogiczna
im. Janusza Korczaka
w Warszawie



UNIA EUROPEJSKA
EUROPEJSKI
FUNDUSZ SPOŁECZNY



Karta pracy nr 1

Dodawanie i odejmowanie w zakresie 100

ZADANIE 1 - Oblicz:

$25 + 41 =$

| | | | | | | | | | |
|--|--|--|--|--|--|--|--|--|--|
| | | | | | | | | | |
| | | | | | | | | | |

$25 + 37 =$

| | | | | | | | | | |
|--|--|--|--|--|--|--|--|--|--|
| | | | | | | | | | |
| | | | | | | | | | |

$29 + 54 =$

| | | | | | | | | | |
|--|--|--|--|--|--|--|--|--|--|
| | | | | | | | | | |
| | | | | | | | | | |

$27 + 46 =$

| | | | | | | | | | |
|--|--|--|--|--|--|--|--|--|--|
| | | | | | | | | | |
| | | | | | | | | | |

$28 + 17 =$

| | | | | | | | | | |
|--|--|--|--|--|--|--|--|--|--|
| | | | | | | | | | |
| | | | | | | | | | |

$33 + 58 =$

| | | | | | | | | | |
|--|--|--|--|--|--|--|--|--|--|
| | | | | | | | | | |
| | | | | | | | | | |

$36 + 13 =$

| | | | | | | | | | |
|--|--|--|--|--|--|--|--|--|--|
| | | | | | | | | | |
| | | | | | | | | | |

$42 + 13 =$

| | | | | | | | | | |
|--|--|--|--|--|--|--|--|--|--|
| | | | | | | | | | |
| | | | | | | | | | |

$49 + 49 =$

| | | | | | | | | | |
|--|--|--|--|--|--|--|--|--|--|
| | | | | | | | | | |
| | | | | | | | | | |

$76 + 16 =$

| | | | | | | | | | |
|--|--|--|--|--|--|--|--|--|--|
| | | | | | | | | | |
| | | | | | | | | | |

$19 + 36 =$

| | | | | | | | | | |
|--|--|--|--|--|--|--|--|--|--|
| | | | | | | | | | |
| | | | | | | | | | |

$57 + 39 =$

| | | | | | | | | | |
|--|--|--|--|--|--|--|--|--|--|
| | | | | | | | | | |
| | | | | | | | | | |

ZADANIE 2- Oblicz:

$33 - 5 =$

| | | | | | | | | | |
|--|--|--|--|--|--|--|--|--|--|
| | | | | | | | | | |
| | | | | | | | | | |

$35 - 0 =$

| | | | | | | | | | |
|--|--|--|--|--|--|--|--|--|--|
| | | | | | | | | | |
| | | | | | | | | | |

$38 - 17 =$

| | | | | | | | | | |
|--|--|--|--|--|--|--|--|--|--|
| | | | | | | | | | |
| | | | | | | | | | |

$72 - 15 =$

| | | | | | | | | | |
|--|--|--|--|--|--|--|--|--|--|
| | | | | | | | | | |
| | | | | | | | | | |

$96 - 47 =$

| | | | | | | | | | |
|--|--|--|--|--|--|--|--|--|--|
| | | | | | | | | | |
| | | | | | | | | | |

$31 - 26 =$

| | | | | | | | | | |
|--|--|--|--|--|--|--|--|--|--|
| | | | | | | | | | |
| | | | | | | | | | |



KAPITAŁ LUDZKI
CZŁOWIEK – NAJLEPSZA INWESTYCJA!



Wyższa Szkoła
Pedagogiczna
im. Janusza Korczaka
w Warszawie



UNIA EUROPEJSKA
EUROPEJSKI
FUNDUSZ SPOŁECZNY



Karta pracy nr 1

Dodawanie i odejmowanie w zakresie 100

$64 - 9 =$

| | | | | | | | | | |
|--|--|--|--|--|--|--|--|--|--|
| | | | | | | | | | |
| | | | | | | | | | |
| | | | | | | | | | |

$36 - 17 =$

| | | | | | | | | | |
|--|--|--|--|--|--|--|--|--|--|
| | | | | | | | | | |
| | | | | | | | | | |
| | | | | | | | | | |

$34 - 99 =$

| | | | | | | | | | |
|--|--|--|--|--|--|--|--|--|--|
| | | | | | | | | | |
| | | | | | | | | | |
| | | | | | | | | | |

$53 - 24 =$

| | | | | | | | | | |
|--|--|--|--|--|--|--|--|--|--|
| | | | | | | | | | |
| | | | | | | | | | |
| | | | | | | | | | |

$78 - 16 =$

| | | | | | | | | | |
|--|--|--|--|--|--|--|--|--|--|
| | | | | | | | | | |
| | | | | | | | | | |
| | | | | | | | | | |

$93 - 38 =$

| | | | | | | | | | |
|--|--|--|--|--|--|--|--|--|--|
| | | | | | | | | | |
| | | | | | | | | | |
| | | | | | | | | | |



KAPITAŁ LUDZKI
CZŁOWIEK – NAJLEPSZA INWESTYCJA!



Wyższa Szkoła
Pedagogiczna
im. Janusza Korczaka
w Warszawie



UNIA EUROPEJSKA
EUROPEJSKI
FUNDUSZ SPOŁECZNY



Karta pracy nr 2

Dodawanie w zakresie 100 z okienkiem

ZADANIE 1 – Zapisz i oblicz działania:

a) Suma liczb 44 i 18

[illegible]

b) Suma liczb 32 i 17

[illegible]

c) Składniki to liczby 42, 21 i 4

[illegible]

d) Składniki to liczby 12 i 38

[illegible]

KAPITAŁ LUDZKI
CZŁOWIEK – NAJLEPSZA INWESTYCJA!



**Wyższa Szkoła
Pedagogiczna**
im. Janusza Korczaka
w Warszawie



UNIA EUROPEJSKA
EUROPEJSKI
FUNDUSZ SPOŁECZNY



Karta pracy nr 2

Dodawanie w zakresie 100 z okienkiem

ZADANIE 2 – Wstaw odpowiednią liczbę w okienko:

$$21 + \begin{array}{|c|c|c|c|} \hline & & & \\ \hline & & & \\ \hline & & & \\ \hline \end{array} = 37$$

$$34 + \begin{array}{|c|c|c|c|} \hline & & & \\ \hline & & & \\ \hline & & & \\ \hline \end{array} = 54$$

$$64 + \begin{array}{|c|c|c|c|} \hline & & & \\ \hline & & & \\ \hline & & & \\ \hline \end{array} = 99$$

$$75 + \begin{array}{|c|c|c|c|} \hline & & & \\ \hline & & & \\ \hline & & & \\ \hline \end{array} = 100$$

$$43 + \begin{array}{|c|c|c|c|} \hline & & & \\ \hline & & & \\ \hline & & & \\ \hline \end{array} = 41 + 15$$

$$73 + 21 = 57 + \begin{array}{|c|c|c|c|} \hline & & & \\ \hline & & & \\ \hline & & & \\ \hline \end{array}$$

$$68 + 13 = \begin{array}{|c|c|c|c|} \hline & & & \\ \hline & & & \\ \hline & & & \\ \hline \end{array} + 57$$

$$57 + 34 = 50 + \begin{array}{|c|c|c|c|} \hline & & & \\ \hline & & & \\ \hline & & & \\ \hline \end{array}$$

$$15 + \begin{array}{|c|c|c|c|} \hline & & & \\ \hline & & & \\ \hline & & & \\ \hline \end{array} = 57 = 57 + \begin{array}{|c|c|c|c|} \hline & & & \\ \hline & & & \\ \hline & & & \\ \hline \end{array}$$

$$9 + \begin{array}{|c|c|c|c|} \hline & & & \\ \hline & & & \\ \hline & & & \\ \hline \end{array} = 14 + 17 = \begin{array}{|c|c|c|c|} \hline & & & \\ \hline & & & \\ \hline & & & \\ \hline \end{array} + 12$$



KAPITAŁ LUDZKI
CZŁOWIEK – NAJLEPSZA INWESTYCJA!



Wyższa Szkoła
Pedagogiczna
im. Janusza Korczaka
w Warszawie



UNIA EUROPEJSKA
EUROPEJSKI
FUNDUSZ SPOŁECZNY



Karta pracy nr 3

Odejmowanie w zakresie 1000

ZADANIE 1 – Zapisz i oblicz działania:

[illegible]

[illegible]

[illegible]

[illegible]

[illegible]

[illegible]

[illegible]

[illegible]

[illegible]

[illegible]

[illegible]

[illegible]

ZADANIE 2 – Zapisz i oblicz działania:

a) Różnica liczb 54 i 28

[illegible]

b) Różnica liczb 44 i 7



KAPITAŁ LUDZKI
CZŁOWIEK – NAJLEPSZA INWESTYCJA!



**Wyższa Szkoła
Pedagogiczna**
im. Janusza Korczaka
w Warszawie



UNIA EUROPEJSKA
EUROPEJSKI
FUNDUSZ SPOŁECZNY



Karta pracy nr 3

[illegible]

c) Odjemna to liczba 22, a odjemnik to 12

[illegible]

d) Różnica liczb 84 i 32

[illegible]

e) Różnica liczb 85 i 28

[illegible]

f) Różnica liczb 62 i 17

[illegible]

Karta pracy nr 3

[illegible]

g) Odjemna to liczba 81, a odjemnik to 12

[illegible][illegible]

h) Różnica liczb 87 i 32

[illegible][illegible]

Karta pracy nr 4

Porównywanie

ZADANIE 1 – Zapisz działania i oblicz:

a) liczba o 15 większa od 42

| | | | | | | | | | | | | | | | | | | | |
|--|--|--|--|--|--|--|--|--|--|--|--|--|--|--|--|--|--|--|--|
| | | | | | | | | | | | | | | | | | | | |
| | | | | | | | | | | | | | | | | | | | |

b) liczba o 9 mniejsza od 73

| | | | | | | | | | | | | | | | | | | | |
|--|--|--|--|--|--|--|--|--|--|--|--|--|--|--|--|--|--|--|--|
| | | | | | | | | | | | | | | | | | | | |
| | | | | | | | | | | | | | | | | | | | |

c) liczba o 60 większa od 34

| | | | | | | | | | | | | | | | | | | | |
|--|--|--|--|--|--|--|--|--|--|--|--|--|--|--|--|--|--|--|--|
| | | | | | | | | | | | | | | | | | | | |
| | | | | | | | | | | | | | | | | | | | |

d) liczba o 15 mniejsza od 55

| | | | | | | | | | | | | | | | | | | | |
|--|--|--|--|--|--|--|--|--|--|--|--|--|--|--|--|--|--|--|--|
| | | | | | | | | | | | | | | | | | | | |
| | | | | | | | | | | | | | | | | | | | |

e) liczba o 23 większa od 70

| | | | | | | | | | | | | | | | | | | | |
|--|--|--|--|--|--|--|--|--|--|--|--|--|--|--|--|--|--|--|--|
| | | | | | | | | | | | | | | | | | | | |
| | | | | | | | | | | | | | | | | | | | |

f) liczba o 14 mniejsza od 78

| | | | | | | | | | | | | | | | | | | | |
|--|--|--|--|--|--|--|--|--|--|--|--|--|--|--|--|--|--|--|--|
| | | | | | | | | | | | | | | | | | | | |
| | | | | | | | | | | | | | | | | | | | |

ZADANIE 2 – Wstaw odpowiedni znak:

14

69

47

29

| |
|--|
| |
| |
| |
| |

19

70

54

27



KAPITAŁ LUDZKI
CZŁOWIEK – NAJLEPSZA INWESTYCJA!



Wyższa Szkoła
Pedagogiczna
im. Janusza Korczaka
w Warszawie



UNIA EUROPEJSKA
EUROPEJSKI
FUNDUSZ SPOŁECZNY



Karta pracy nr 4

13

13

71 + 12

76 + 20

30 + 43

47 + 15

70 - 34

50 - 4

61 - 0

54 - 2

74 - 39

57 - 23



KAPITAŁ LUDZKI
CZŁOWIEK – NAJLEPSZA INWESTYCJA!



Wyższa Szkoła
Pedagogiczna
im. Janusza Korczaka
w Warszawie



UNIA EUROPEJSKA
EUROPEJSKI
FUNDUSZ SPOŁECZNY



Porównywanie - zadania

a) liczba o 5 większa od 17 to

[illegible]

c) liczba o 4 większa od 81 to

[illegible][illegible]

d) liczba 2 razy większa od 5 to

[illegible]

e) liczba 3 razy większa od 3 to

[illegible]

f) liczba o 14 mniejsza od 51 to

[illegible]

Porównywanie - zadania

O ile więcej gwiazd zobaczyła Kasia?

[illegible]



Porównywanie - zadania

[illegible][illegible]

Porównywanie - zadania

[illegible]



Karta pracy nr 6

Mnożenie

ZADANIE 1 – Oblicz:

$2 \times 7 =$

| | | | | | | | | | |
|--|--|--|--|--|--|--|--|--|--|
| | | | | | | | | | |
| | | | | | | | | | |

$6 \times 4 =$

| | | | | | | | | | |
|--|--|--|--|--|--|--|--|--|--|
| | | | | | | | | | |
| | | | | | | | | | |

$8 \times 3 =$

| | | | | | | | | | |
|--|--|--|--|--|--|--|--|--|--|
| | | | | | | | | | |
| | | | | | | | | | |

$5 \times 6 =$

| | | | | | | | | | |
|--|--|--|--|--|--|--|--|--|--|
| | | | | | | | | | |
| | | | | | | | | | |

$9 \times 4 =$

| | | | | | | | | | |
|--|--|--|--|--|--|--|--|--|--|
| | | | | | | | | | |
| | | | | | | | | | |

$7 \times 9 =$

| | | | | | | | | | |
|--|--|--|--|--|--|--|--|--|--|
| | | | | | | | | | |
| | | | | | | | | | |

$8 \times 4 =$

| | | | | | | | | | |
|--|--|--|--|--|--|--|--|--|--|
| | | | | | | | | | |
| | | | | | | | | | |

$9 \times 7 =$

| | | | | | | | | | |
|--|--|--|--|--|--|--|--|--|--|
| | | | | | | | | | |
| | | | | | | | | | |

$9 \times 5 =$

| | | | | | | | | | |
|--|--|--|--|--|--|--|--|--|--|
| | | | | | | | | | |
| | | | | | | | | | |

$3 \times 8 =$

| | | | | | | | | | |
|--|--|--|--|--|--|--|--|--|--|
| | | | | | | | | | |
| | | | | | | | | | |

$10 \times 9 =$

| | | | | | | | | | |
|--|--|--|--|--|--|--|--|--|--|
| | | | | | | | | | |
| | | | | | | | | | |

$7 \times 5 =$

| | | | | | | | | | |
|--|--|--|--|--|--|--|--|--|--|
| | | | | | | | | | |
| | | | | | | | | | |

$5 \times 7 =$

| | | | | | | | | | |
|--|--|--|--|--|--|--|--|--|--|
| | | | | | | | | | |
| | | | | | | | | | |

$6 \times 9 =$

| | | | | | | | | | |
|--|--|--|--|--|--|--|--|--|--|
| | | | | | | | | | |
| | | | | | | | | | |

$7 \times 7 =$

| | | | | | | | | | |
|--|--|--|--|--|--|--|--|--|--|
| | | | | | | | | | |
| | | | | | | | | | |

$0 \times 6 =$

| | | | | | | | | | |
|--|--|--|--|--|--|--|--|--|--|
| | | | | | | | | | |
| | | | | | | | | | |

$8 \times 7 =$

| | | | | | | | | | |
|--|--|--|--|--|--|--|--|--|--|
| | | | | | | | | | |
| | | | | | | | | | |

$9 \times 7 =$

| | | | | | | | | | |
|--|--|--|--|--|--|--|--|--|--|
| | | | | | | | | | |
| | | | | | | | | | |



KAPITAŁ LUDZKI
CZŁOWIEK – NAJLEPSZA INWESTYCJA!



Wyższa Szkoła
Pedagogiczna
im. Janusza Korczaka
w Warszawie



UNIA EUROPEJSKA
EUROPEJSKI
FUNDUSZ SPOŁECZNY



Karta pracy nr 6

Mnożenie

ZADANIE 2 – Zapisz mnożenie w postaci sumy tych samych składników i oblicz :

$2 \times 5 =$

$4 \times 5 =$

$3 \times 8 =$

$3 \times 13 =$

$3 \times 20 =$

$6 \times 9 =$

$$4 \times 15 =$$



KAPITAŁ LUDZKI
CZŁOWIEK – NAJLEPSZA INWESTYCJA!



**Wyższa Szkoła
Pedagogiczna**
im. Janusza Korczaka
w Warszawie



UNIA EUROPEJSKA
EUROPEJSKI
FUNDUSZ SPOŁECZNY



Karta pracy nr 7

Dzielenie

ZADANIE 1 – Oblicz:

$10 : 1 =$

| | | | | | | | | | |
|--|--|--|--|--|--|--|--|--|--|
| | | | | | | | | | |
| | | | | | | | | | |

$27 : 9 =$

| | | | | | | | | | |
|--|--|--|--|--|--|--|--|--|--|
| | | | | | | | | | |
| | | | | | | | | | |

$0 : 7 =$

| | | | | | | | | | |
|--|--|--|--|--|--|--|--|--|--|
| | | | | | | | | | |
| | | | | | | | | | |

$48 : 6 =$

| | | | | | | | | | |
|--|--|--|--|--|--|--|--|--|--|
| | | | | | | | | | |
| | | | | | | | | | |

$80 : 10 =$

| | | | | | | | | | |
|--|--|--|--|--|--|--|--|--|--|
| | | | | | | | | | |
| | | | | | | | | | |

$48 : 8 =$

| | | | | | | | | | |
|--|--|--|--|--|--|--|--|--|--|
| | | | | | | | | | |
| | | | | | | | | | |

$36 : 2 =$

| | | | | | | | | | |
|--|--|--|--|--|--|--|--|--|--|
| | | | | | | | | | |
| | | | | | | | | | |

$49 : 7 =$

| | | | | | | | | | |
|--|--|--|--|--|--|--|--|--|--|
| | | | | | | | | | |
| | | | | | | | | | |

$24 : 4 =$

| | | | | | | | | | |
|--|--|--|--|--|--|--|--|--|--|
| | | | | | | | | | |
| | | | | | | | | | |

$63 : 7 =$

| | | | | | | | | | |
|--|--|--|--|--|--|--|--|--|--|
| | | | | | | | | | |
| | | | | | | | | | |

$32 : 4 =$

| | | | | | | | | | |
|--|--|--|--|--|--|--|--|--|--|
| | | | | | | | | | |
| | | | | | | | | | |

$40 : 8 =$

| | | | | | | | | | |
|--|--|--|--|--|--|--|--|--|--|
| | | | | | | | | | |
| | | | | | | | | | |

$45 : 5 =$

| | | | | | | | | | |
|--|--|--|--|--|--|--|--|--|--|
| | | | | | | | | | |
| | | | | | | | | | |

$32 : 8 =$

| | | | | | | | | | |
|--|--|--|--|--|--|--|--|--|--|
| | | | | | | | | | |
| | | | | | | | | | |

$56 : 8 =$

| | | | | | | | | | |
|--|--|--|--|--|--|--|--|--|--|
| | | | | | | | | | |
| | | | | | | | | | |

$81 : 9 =$

| | | | | | | | | | |
|--|--|--|--|--|--|--|--|--|--|
| | | | | | | | | | |
| | | | | | | | | | |

$28 : 4 =$

| | | | | | | | | | |
|--|--|--|--|--|--|--|--|--|--|
| | | | | | | | | | |
| | | | | | | | | | |

$42 : 7 =$

| | | | | | | | | | |
|--|--|--|--|--|--|--|--|--|--|
| | | | | | | | | | |
| | | | | | | | | | |



KAPITAŁ LUDZKI
CZŁOWIEK – NAJLEPSZA INWESTYCJA!



Wyższa Szkoła
Pedagogiczna
im. Janusza Korczaka
w Warszawie



UNIA EUROPEJSKA
EUROPEJSKI
FUNDUSZ SPOŁECZNY



Karta pracy nr 8

Miesiące, dni, tygodnie

ZADANIE 1 – Ponumeruj kolejne kwartały znakami rzymskimi. Wypisz nazwy miesięcy w każdym kwartale.

| | | | | | |
|--|--|--|--|--|--|
| | | | | | |
| | | | | | |
| | | | | | |

kwartał

| | | | | | |
|--|--|--|--|--|--|
| | | | | | |
| | | | | | |
| | | | | | |

kwartał

| | | | | | |
|--|--|--|--|--|--|
| | | | | | |
| | | | | | |
| | | | | | |

kwartał



KAPITAŁ LUDZKI
CZŁOWIEK – NAJLEPSZA INWESTYCJA!



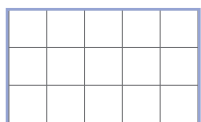
Wyższa Szkoła
Pedagogiczna
im. Janusza Korczaka
w Warszawie



UNIA EUROPEJSKA
EUROPEJSKI
FUNDUSZ SPOŁECZNY



Karta pracy nr 8



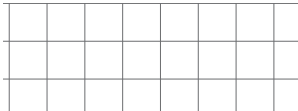
kwartał

ZADANIE 2 – Uzupełnij zdania:

a) tydzień ma  dni

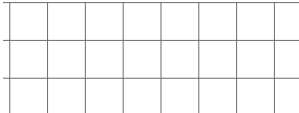
b) 2 tygodnie to  dni

c) 3 tygodnie to  dni

d) 28 dni to  tygodnie

e) 5 tygodni to  dni

f) 14 dni to  tygodnie

g) 1 kwartał to  miesiące

h) rok ma  miesięcy



KAPITAŁ LUDZKI
CZŁOWIEK – NAJLEPSZA INWESTYCJA!



Wyższa Szkoła
Pedagogiczna
im. Janusza Korczaka
w Warszawie



UNIA EUROPEJSKA
EUROPEJSKI
FUNDUSZ SPOŁECZNY



Karta pracy nr 8

i) luty ma

| | | | | | | | | | |
|--|--|--|--|--|--|--|--|--|--|
| | | | | | | | | | |
| | | | | | | | | | |
| | | | | | | | | | |

dni

j) miesiące które mają 30 dni to:

k) miesiące które mają 31 dni to:



KAPITAŁ LUDZKI
CZŁOWIEK – NAJLEPSZA INWESTYCJA!



Wyższa Szkoła
Pedagogiczna
im. Janusza Korczaka
w Warszawie



UNIA EUROPEJSKA
EUROPEJSKI
FUNDUSZ SPOŁECZNY



Karta pracy nr 9

Obliczenia kalendarzowe

ZADANIE 1 – Ile dni upłynie? Wykonaj obliczenia i zapisz odpowiedź:

a) od 12.01 do 18.01

[illegible]

Odpowiedź:

b) od 30.01 do 08.02

[illegible]

Odpowiedź:



KAPITAŁ LUDZKI
CZŁOWIEK – NAJLEPSZA INWESTYCJA!



**Wyższa Szkoła
Pedagogiczna**
im. Janusza Korczaka
w Warszawie



UNIA EUROPEJSKA
EUROPEJSKI
FUNDUSZ SPOŁECZNY



Karta pracy nr 9

Obliczenia kalendarzowe

c) od 05.10 do 12.10

[illegible]

Odpowiedź:

d) od 29.03 do 01.04

[illegible]

Odpowiedź:



KAPITAŁ LUDZKI
CZŁOWIEK – NAJLEPSZA INWESTYCJA!



**Wyższa Szkoła
Pedagogiczna**
im. Janusza Korczaka
w Warszawie



UNIA EUROPEJSKA
EUROPEJSKI
FUNDUSZ SPOŁECZNY



Karta pracy nr 9

Obliczenia kalendarzowe

e) od 1.02 do 3.03

[illegible]

Odpowiedź:

f) od 6.12 do 24.12

[illegible]

Odpowiedź:

Karta pracy nr 9

Obliczenia kalendarzowe

g) od 1.09 do 24.12

[illegible]

Odpowiedź:

ZADANIE 1 – Zapisz Odpowiedzi.

a) Zosia wyjechała na ferie 1 lutego. Nie było jej przez tydzień. Kiedy Zosia wróci do szkoły?

Karta pracy nr 9

Obliczenia kalendarzowe

b) Ania wysłała list do babci 15 grudnia. Pani na poczcie powiedziała, że list dojdzie za 4 dni. Jaka będzie data, gdy babcia otrzyma list?

c) Przerwa świąteczna trwa od 22 grudnia do 6 stycznia. Oblicz jak długo trwa przerwa.

d) Wyobraź sobie, że dzisiaj jest wtorek. Jaki dzień wypadnie za 5 dni?



KAPITAŁ LUDZKI
CZŁOWIEK – NAJLEPSZA INWESTYCJA!



Wyższa Szkoła
Pedagogiczna
im. Janusza Korczaka
w Warszawie



UNIA EUROPEJSKA
EUROPEJSKI
FUNDUSZ SPOŁECZNY



Karta pracy nr 9

Obliczenia kalendarzowe

e) Wyobraź sobie, że dzisiaj jest środa. Jaki dzień był wczoraj?

f) Wyobraź sobie, że dzisiaj jest środa. Jaki dzień był dwa dni wcześniej?

g) Wyobraź sobie, że dzisiaj jest środa. Jaki dzień będzie za 3 dni?



KAPITAŁ LUDZKI
CZŁOWIEK – NAJLEPSZA INWESTYCJA!



Wyższa Szkoła
Pedagogiczna
im. Janusza Korczaka
w Warszawie



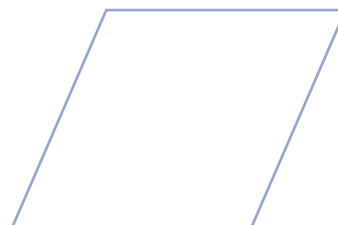
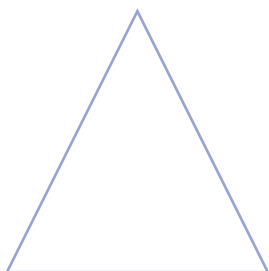

UNIA EUROPEJSKA
EUROPEJSKI
FUNDUSZ SPOŁECZNY



Karta pracy nr 10

Geometria

ZADANIE 1 – Rozpoznaj i podpisz każdą z przedstawionych figur geometrycznych.



KAPITAŁ LUDZKI
CZŁOWIEK – NAJLEPSZA INWESTYCJA!



Wyższa Szkoła
Pedagogiczna
im. Janusza Korczaka
w Warszawie





UNIA EUROPEJSKA
EUROPEJSKI
FUNDUSZ SPOŁECZNY



Karta pracy nr 10

Geometria









KAPITAŁ LUDZKI
CZŁOWIEK – NAJLEPSZA INWESTYCJA!



Wyższa Szkoła
Pedagogiczna
im. Janusza Korczaka
w Warszawie



UNIA EUROPEJSKA
EUROPEJSKI
FUNDUSZ SPOŁECZNY



Karta pracy nr 10

Geometria

ZADANIE 2 – Wykonaj zadania:

- a) Posługując się linijką narysuj prostokąt o bokach długości 4 cm i 3cm oraz kwadrat o bokach 5 cm
- b) Narysuj łamaną o ABCD złożoną z 3 odcinków o długości 2cm, 4 cm i 3,5cm



KAPITAŁ LUDZKI
CZŁOWIEK – NAJLEPSZA INWESTYCJA!



Wyższa Szkoła
Pedagogiczna
im. Janusza Korczaka
w Warszawie




UNIA EUROPEJSKA
EUROPEJSKI
FUNDUSZ SPOŁECZNY



Karta pracy nr 10

Geometria

ZADANIE 3 – Przyjrzyj się uważnie postaci na ilustracji, policz i napisz:



a) Z ilu kół jest złożona?

[illegible]

b) Z ilu prostokątów się składa?

[illegible]

c) Z ilu trójkątów się składa?

[illegible]