


Scenariusz lekcji: Edukacja matematyczna. Odczytywanie wskazań zegara


.....
imię i nazwisko

1. Narysuj na tarczach zegarów wskazówki oznaczające godziny:


a) Godzina 8.00




b) Godzina 10.00



c) Godzina 2.00



d) Godzina 4.00



4 punkty

2. Beata je śniadanie o 7.00 rano, a Asia o godzinę później. O której godzinie Asia je śniadanie?

Rozwiązanie:

Odpowiedź:

2 punkty

3. Kamil kładzie się spać o 9.00 wieczorem, a Daniel godzinę wcześniej. O której godzinie Daniel kładzie się spać?

Rozwiązanie:

Odpowiedź:

2 punkty

4. Kamila wychodzi do szkoły o 8.00 rano. Wraca do domu po pięciu godzinach. O której godzinie Kamila wraca po lekcjach do domu?

Rozwiązanie:

Odpowiedź:

	2 punkty
--	----------

Razem:		na 10 punktów
---------------	--	----------------------

PUNKTACJA:



- | | |
|----------------------|------------------------|
| 10 punktów | - Wspaniale! |
| 9 – 8 punktów | - Bardzo dobrze |
| 7 – 6 punktów | - Dobrze |
| 5 – 4 punktów | - Pracuj dalej |
| 3 – 0 punktów | - Pomyśl |

Moja ocena:

KARTA ODPOWIEDZI

1. Zadanie 1

Rozwiązanie:



2. Zadanie 2

Rozwiązanie: $7 + 1 = 8$

Odpowiedź: Asia je śniadanie o godzinie 8.00 rano.

3. Zadanie 3

Rozwiązanie: $9 - 1 = 8$

Odpowiedź: Daniel kładzie się spać o godzinie 8.00 wieczorem.

4. Zadanie 4

Rozwiązanie: Kamila wraca po lekcjach do domu o godz. 13.00.