

Test sprawdzający nr 5

Imię i nazwisko ucznia:

Klasa:

Data:

Wynik: _____ / 20

1. Policz ptaki na obrazkach i zapisz cyfrą ich liczbę:

a)



..... wróbli

b)



..... sikorki

2. Który ołówek jest dłuższy? Otocz pętlą prawidłową odpowiedź:



5 cm



3 cm



KAPITAŁ LUDZKI
NARODOWA STRATEGIA SPÓJNOŚCI



OŚRODEK
ROZWOJU
EDUKACJI

UNIA EUROPEJSKA
EUROPEJSKI
FUNDUSZ SPOŁECZNY



Innowacyjny start edukacyjny

Projekt współfinansowany przez Unię Europejską w ramach Europejskiego Funduszu Społecznego.

3. Zmierz ołówki i napisz ich długość pod obrazkiem:

a)



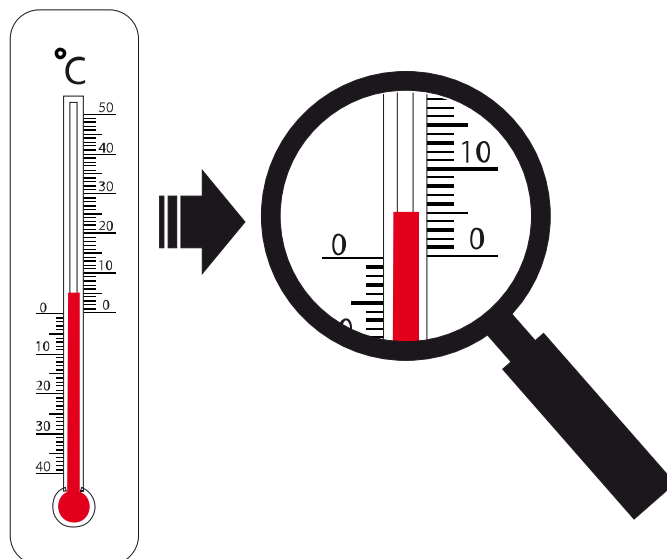
Ten ołówek ma centymetrów

b)




Ten ołówek ma centymetrów

4. Napisz, ile stopni wskazuje termometr:



Termometr wskazuje plus ... stopni

5. Otocz pętlą gatunki ptaków, które odlatują do ciepłych krajów na zimę:



KAPITAŁ LUDZKI
NARODOWA STRATEGIA SPÓJNOŚCI



OŚRODEK
ROZWOJU
EDUKACJI

UNIA EUROPEJSKA
EUROPEJSKI
FUNDUSZ SPOŁECZNY




Innowacyjny start edukacyjny

Projekt współfinansowany przez Unię Europejską w ramach Europejskiego Funduszu Społecznego.


6. Podpisz obrazki:

a)



Ten pan ma duży

b)



Ta mieszka w zoo.

7. Przeczytaj zdania i napisz brakujące litery:

W szklance nie ma ...ody.

Ten pies ma doskonały w...ch.

Księżyc świeci na niebie w ...ocy.



KAPITAŁ LUDZKI
NARODOWA STRATEGIA SPÓJNOŚCI



OŚRODEK
ROZWOJU
EDUKACJI

UNIA EUROPEJSKA
EUROPEJSKI
FUNDUSZ SPOŁECZNY



Innowacyjny start edukacyjny

Projekt współfinansowany przez Unię Europejską w ramach Europejskiego Funduszu Społecznego.

8. Słuchaj nauczyciela. Narysuj elementy pogody, które usłyszysz po angielsku:

a)




b)



c)



Komentarz nauczyciela:



KAPITAŁ LUDZKI
NARODOWA STRATEGIA SPÓJNOŚCI



OŚRODEK
ROZWOJU
EDUKACJI

UNIA EUROPEJSKA
EUROPEJSKI
FUNDUSZ SPOŁECZNY



Innowacyjny start edukacyjny

Projekt współfinansowany przez Unię Europejską w ramach Europejskiego Funduszu Społecznego.