

## Test sprawdzający nr 6

Imię i nazwisko ucznia:

Klasa:

Data:

Wynik: \_\_\_\_\_ / 20

1. Otocz pętlą czynności, których nie wolno robić w muzeum:



2. Wykonaj działania matematyczne i napisz prawidłowy wynik:

a)  $3 + 3 =$  \_\_\_\_\_

b)  $9 - 5 =$  \_\_\_\_\_

c)  $7 + 2 =$  \_\_\_\_\_



**KAPITAŁ LUDZKI**  
NARODOWA STRATEGIA SPÓJNOŚCI



OŚRODEK  
ROZWOJU  
EDUKACJI

UNIA EUROPEJSKA  
EUROPEJSKI  
FUNDUSZ SPOŁECZNY



**Innowacyjny start edukacyjny**

Projekt współfinansowany przez Unię Europejską w ramach Europejskiego Funduszu Społecznego.

3. Napisz, która godzina jest na zegarze:


*Jest godzina .....*



*Jest godzina .....*



4. Narysuj godzinę 5 na zegarze:



5. Napisz, jaką porę roku widzisz na obrazku:

*Pora roku na obrazku  
to .....*



*Pora roku na obrazku  
to .....*



**KAPITAŁ LUDZKI**  
NARODOWA STRATEGIA SPÓJNOŚCI



OŚRODEK  
ROZWOJU  
EDUKACJI

UNIA EUROPEJSKA  
EUROPEJSKI  
FUNDUSZ SPOŁECZNY



**Innowacyjny start edukacyjny**


Projekt współfinansowany przez Unię Europejską w ramach Europejskiego Funduszu Społecznego.

6. Wklej dni tygodnia w odpowiedniej kolejności:


<b>Dzień tygodnia:</b>
poniedziałek
czwartek
sobota

7. Otocz pętlą poprawny symbol igrzysk olimpijskich:


a)



b)



c)



**KAPITAŁ LUDZKI**  
NARODOWA STRATEGIA SPÓJNOŚCI



OŚRODEK  
ROZWOJU  
EDUKACJI


UNIA EUROPEJSKA  
EUROPEJSKI  
FUNDUSZ SPOŁECZNY




**Innowacyjny start edukacyjny**

Projekt współfinansowany przez Unię Europejską w ramach Europejskiego Funduszu Społecznego.

2. Wklej do ramki dyscypliny Olimpiady zimowej:



Komentarz nauczyciela:



**KAPITAŁ LUDZKI**  
NARODOWA STRATEGIA SPÓJNOŚCI



OŚRODEK  
ROZWOJU  
EDUKACJI

UNIA EUROPEJSKA  
EUROPEJSKI  
FUNDUSZ SPOŁECZNY



**Innowacyjny start edukacyjny**

Projekt współfinansowany przez Unię Europejską w ramach Europejskiego Funduszu Społecznego.