

Test sprawdzający nr 3

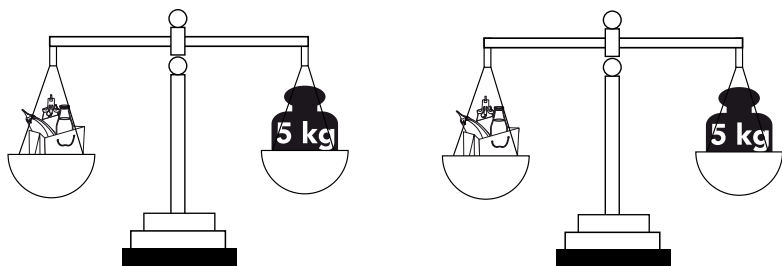
Imię i nazwisko ucznia:

Klasa:

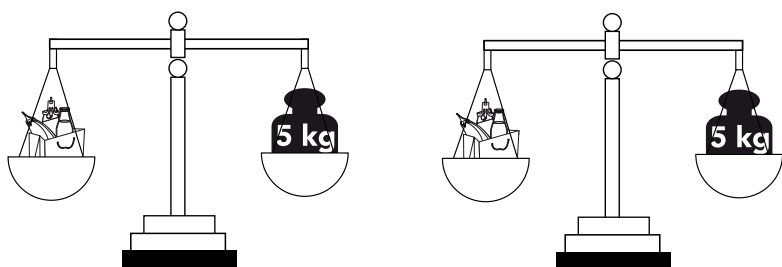
Data:

Wynik: _____ / 20

1. Otocz pętlą cięższą torbę z zakupami:





2. Otocz pętlą lżejszą torbę z owocami:



3. Policz zwierzęta:

a) policz lwy i zapisz cyfrą ich liczbę



KAPITAŁ LUDZKI
NARODOWA STRATEGIA SPÓJNOŚCI



OŚRODEK
ROZWOJU
EDUKACJI


UNIA EUROPEJSKA
EUROPEJSKI
FUNDUSZ SPOŁECZNY



Innowacyjny start edukacyjny

Projekt współfinansowany przez Unię Europejską w ramach Europejskiego Funduszu Społecznego.


b) policz niedźwiedzie i zapisz cyfrą ich liczbę



Blank grid lines for writing the answer to question b).


4. Podpisz obrazek a i b:

a)



Blank grid lines for writing the answer to question 4a).

b)



Blank grid lines for writing the answer to question 4b).

5. Ułóż zdanie z wyrazów i przepisuj je:

w zoo. mieszkają zwierzęta Dzikie

Blank grid lines for writing the sentence from the words provided.



KAPITAŁ LUDZKI
NARODOWA STRATEGIA SPÓJNOŚCI



OŚRODEK
ROZWOJU
EDUKACJI

UNIA EUROPEJSKA
EUROPEJSKI
FUNDUSZ SPOŁECZNY



Innowacyjny start edukacyjny

Projekt współfinansowany przez Unię Europejską w ramach Europejskiego Funduszu Społecznego.

6. Przyklej obrazki do właściwych gromad:

ssaki	
ptaki	
gady	
płazy	

7. Otocz pętlą prawidłową odpowiedź:

a) ile wierzchołków ma kwadrat?

2	3	4
----------	----------	----------

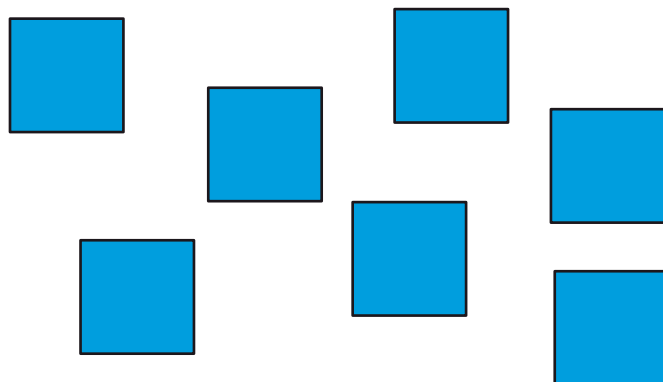

b) kto występuje na scenie w teatrze?

widz	aktor	reżyser
-------------	--------------	----------------

c) planetą układu słonecznego jest:

gwiazda polarna	Jupiter	droga mleczna
------------------------	----------------	----------------------

8. Policz koła i kwadraty. Otocz pętlą zbiór, który ma więcej elementów:



KAPITAŁ LUDZKI
NARODOWA STRATEGIA SPÓJNOŚCI



OŚRODEK
ROZWOJU
EDUKACJI

UNIA EUROPEJSKA
EUROPEJSKI
FUNDUSZ SPOŁECZNY




Innowacyjny start edukacyjny

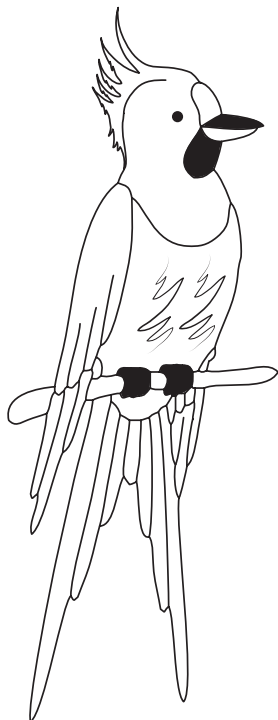
Projekt współfinansowany przez Unię Europejską w ramach Europejskiego Funduszu Społecznego.

9. Pokoloruj kształty według instrukcji:


a)



b)



c)



Komentarz nauczyciela:

.....

.....

.....

.....

.....

.....

.....

.....



KAPITAŁ LUDZKI
NARODOWA STRATEGIA SPÓJNOŚCI



OŚRODEK
ROZWOJU
EDUKACJI

UNIA EUROPEJSKA
EUROPEJSKI
FUNDUSZ SPOŁECZNY



Innowacyjny start edukacyjny

Projekt współfinansowany przez Unię Europejską w ramach Europejskiego Funduszu Społecznego.