

Test sprawdzający nr 2

Imię i nazwisko ucznia:

Klasa:

Data:

Wynik: / 20

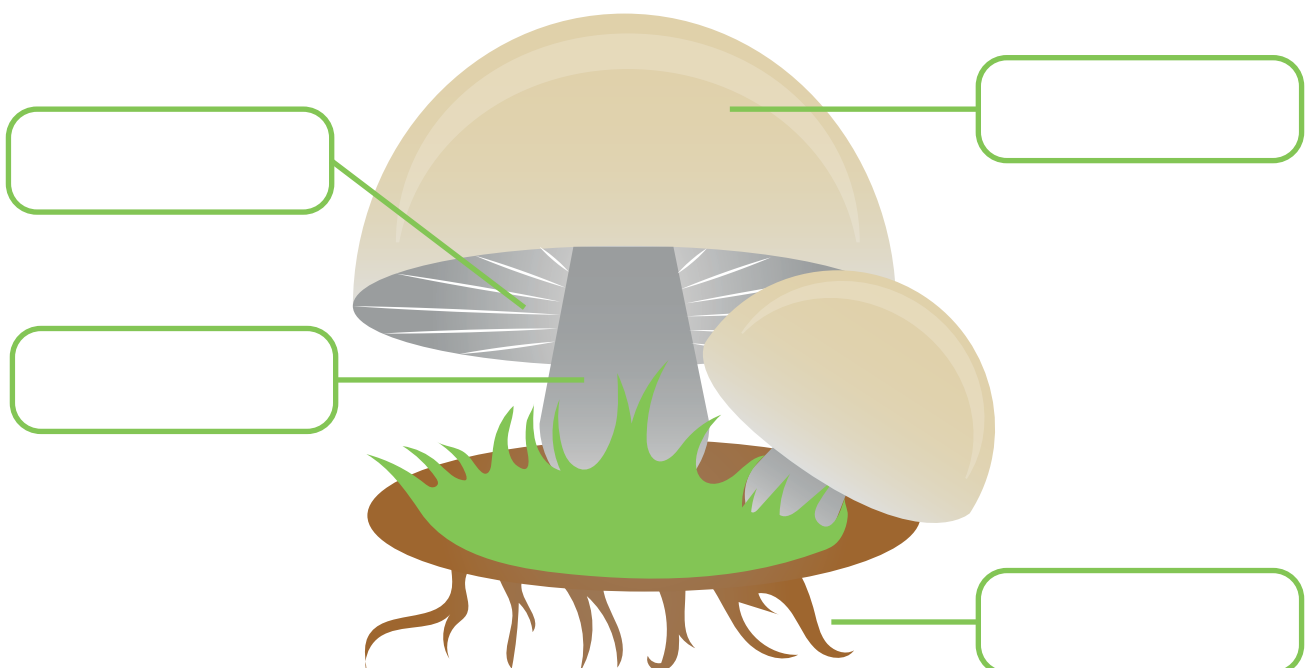
Zadanie 1

Pokoloruj na **zielono** pola z nazwami grzybów jadalnych, na **czerwono** pola z nazwami grzybów niejadalnych:



Zadanie 2

Podpisz elementy budowy grzyba - kapelusz, noga, grzybnia, blaszki:



Zadanie 3

Przeczytaj tekst o Kasi oraz przepis na ciasto.
Jakie dwa produkty zapomniała kupić Kasia?



**Kasia postanowiła wczoraj
zrobić ciasto.**

**Wybrała się więc na zakupy
do sklepu z żywnością.**

**W sklepie kupiła:
kilogram jabłek,
kilogram śliwek,
mleko, mąkę, cukier,
masło w kostce.**

**Gdy wróciła do domu przeczytała
przepis na ciasto.**

**Jakie dwa produkty zapomniała
kupić Kasia?**

Przepis na ciasto:

- kilogram jabłek
- kilogram śliwek
- woda
- mleko
- mąka
- jajka
- cukier
- cukier waniliowy w torebce





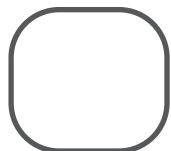


Rozwiązanie:

Kasia zapomniała kupić i

Zadanie 4

Słuchaj nauczyciela, jak mówi po angielsku i zapisz kolejność w jakiej usłyszałeś następujące słowa:



Zadanie 5

Dokończ zdanie:

1. Kieruje ruchem drogowym:


2. Stoi przy przejściu dla pieszych i jest wyposażony w trzy rodzaje świateł: czerwone, zielone i żółte:

Zadanie 6

Spójrz na znaki poniżej. Połącz linią każdy znak z jego opisem:



znak zakazu



znak nakazu



znak ostrzegawczy



znak informacyjny

Zadanie 7

Połącz linią nazwy członków rodziny tak, aby dobrać ich w pary:

mother

grandpa

sister

father

grandma

brother

aunt

uncle

