

Test sprawdzający nr 7

Imię i nazwisko ucznia:

.....

Klasa: .....

Data: .....

Wynik: .... / 20

**Zadanie 1**

Połącz sylaby, tak aby otrzymać cztery wyrazy związane z fotografią. Następnie zapisz wyrazy w alfabetycznej kolejności:

cie zdję

\_\_\_\_\_  
\_\_\_\_\_  
\_\_\_\_\_

ktyw bie o

\_\_\_\_\_  
\_\_\_\_\_  
\_\_\_\_\_

pa a rat

\_\_\_\_\_  
\_\_\_\_\_  
\_\_\_\_\_


sza kli

\_\_\_\_\_  
\_\_\_\_\_  
\_\_\_\_\_

1. \_\_\_\_\_  
\_\_\_\_\_
2. \_\_\_\_\_  
\_\_\_\_\_
3. \_\_\_\_\_  
\_\_\_\_\_
4. \_\_\_\_\_  
\_\_\_\_\_

## Zadanie 2

Słuchaj, jak nauczyciel mówi po angielsku i ponumeruj komendy w kolejności w jakiej je usłyszysz:



## Zadanie 3

Połącz linią zagadki z odpowiedziami:

Osoba, która podpowiada aktorom w teatrze to

bileter

Osoba, która układa układ taneczny do przedstawienia to

choreograf

Osoba, która sprzedaje sprawdza bilety w teatrze to

sufler

## Zadanie 4

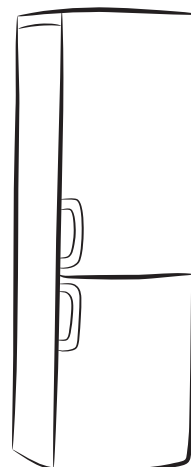

Przeczytaj wyrazy z ramki i zakreśl to urządzenie, którego nie ma na obrazku:

washing machine

fridge

cooker

dish washer



### Zadanie 5

Przeczytaj treść zadania tekstowego, wykonaj działanie matematyczne i napisz odpowiedź:

Lena czyta wieczorami swoją ulubioną książkę przyrodniczą. Każdego wieczora Lena czyta trzy strony książki. Ile stron przeczyta Lena w ciągu 5 dni?

Działanie matematyczne: .....

Odpowiedź: .....

Pani nauczycielka kupiła uczniom 18 ciasteczek z okazji dnia dziecka. Każdy uczeń zjadł po dwa ciasteczka. Ilu uczniów było tego dnia w klasie?

Działanie matematyczne: .....

Odpowiedź: .....

### Zadanie 6

Uzupełnij zdania wyrazami z ramki:

*litry                      kilogramów                      centymetrów    metrów*

Mama kupiła wczoraj 5 ..... pomarańczy.

Jeden metr liczy 100 .....

Dorosły człowiek powinien pić 2 ..... płynów dziennie.

Tomek wygrał bieg na 100 .....

Miejsce na komentarz nauczyciela:

.....

.....

.....

.....

.....

.....

.....

.....