

Test sprawdzający nr 4

Imię i nazwisko ucznia:

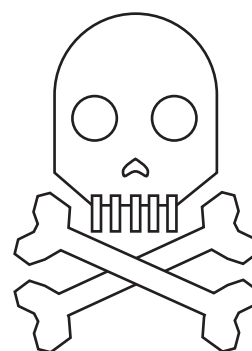


Klasa:

Data:

Wynik: / 20


Zadanie 1

Zakreśl symbol recyklingu i pokoloruj go:




Zadanie 2

Połącz linią śmieci z odpowiednimi dla nich kontenerami:



Zadanie 3

Słuchaj nauczyciela, jak mówi po angielsku. Zakreśl zawody, które usłyszysz:



Zadanie 4

Uzupełnij luki w zdaniach wyrazami:

deszczu / opadów atmosferycznych / parują / gradu / mórz i oceanów

Deszcz, śnieg i grad to przykłady

**Woda, która spada na ziemię w postaci deszczu, śniegu lub,
wnika w głąb gleby.**

**Woda ta podziemnymi strumieniami płynie do rzek, następnie do
..... . Morza i oceany**

**Para wodna unosi się w górę i spada z powrotem na ziemię w postaci
deszczu, śniegu lub**

Cykl powtarza się.

Zadanie 5

Połącz linią kontynenty z państwami, które na nich leżą:

Azja

Polska

Ameryka Południowa

Brazylia

Europa

Stany Zjednoczone

Ameryka Północna

Chiny

Zadanie 6

Dokończ zdania:

1. Osoba, która zdrowo się powinna jeść dużo:

2. Osoba, która zdrowo się odżywia nie powinna jeść:
