

## Test sprawdzający nr 5

Imię i nazwisko ucznia: .....

Klasa: .....

Data: .....

Wynik: .... / 20

### Zadanie 1

Uzupełnij luki w zdaniach:

1. Nasze państwo nazywa się .....
2. Stolicą Polski jest .....
3. Godłem Polski jest .....
4. „Mazurek Dąbrowskiego” jest naszym .....

### Zadanie 2

Przepisz nazwy zabytków do odpowiednich tabeli:

Zamek Wawelski, Łazienki, Pałac Kultury i Nauki,  
Smocza Jama, Sukiennice

**WARSZAWA**

**KRAKÓW**

### Zadanie 3

Podpisz obrazek wyrazami z ramki:

<b>museum</b>	<b>church</b>	<b>park</b>	<b>street</b>	<b>bridge</b>
---------------	---------------	-------------	---------------	---------------



\_\_\_\_\_

\_\_\_\_\_

\_\_\_\_\_

\_\_\_\_\_

\_\_\_\_\_

\_\_\_\_\_

\_\_\_\_\_

\_\_\_\_\_

\_\_\_\_\_

\_\_\_\_\_

\_\_\_\_\_

\_\_\_\_\_

\_\_\_\_\_

\_\_\_\_\_

\_\_\_\_\_

## Zadanie 4

Zakreśl prawidłową odpowiedź:


1. **Ogólnokrajowy numer ratunkowy to:**

115	112	999
-----	-----	-----

2. **Pod jaki numer zadzwonisz, aby wezwać karetkę:**

do babci	997	999
----------	-----	-----

3. **Połącz linią obrazek z prawidłowym numerem ratunkowym:**



998
-----


997
-----

## Zadanie 5

Podpisz obrazki. Uważaj na ortografię!




STR \_ \_ \_ K



PO \_ \_ \_ R



W \_ Z STR \_ \_ \_ KI



STR \_ \_ PO \_ \_ \_ A

## Zadanie 6

Wykonaj działania matematyczne i napisz odpowiedzi:

**Janek i jego kolega Paweł kolekcjonują autografy piłkarzy.**

**Janek ma w swojej kolekcji 8 autografów, a Paweł 11.**

**Ile w sumie autografów mają obaj chłopcy?**

**Działanie matematyczne:** .....

**Odpowiedź:** .....

**Tosia z Maćkiem piekli wczoraj babeczki na szkolny kiermasz.**

**Razem upiekli w sumie 20 babeczek. Gdy babeczki stygły na kuchennym blacie do kuchni wszedł kot sąsiadów i zjadł 7 babeczek.**

**Ile babeczek Tosia i Maciek zabiorą na kiermasz?**

**Działanie matematyczne:** .....

**Odpowiedź:** .....


## Zadanie 7

Odpowiedź na pytania:

**1. Who is that?**



**2. What is that?**



---

---

---

---

